

VER styczeń 2014

Poniższe pytania zostały zebrane w internecie, sposób ich sformułowania może być inny niż pytań egzaminacyjnych. Zebrana baza wciąż nie jest pełna, dlatego należy ją traktować wyłącznie jako dodatkową pomoc w przygotowaniach do egzaminu.

Jeśli w poniższych pytaniach dostrzegą Państwo jakiś błąd – proszę o kontakt mailowy:

moszumanski.lukasz@gmail.com

www.da-car.info

ul. Parkowa 7
58-160 Świebodzice

CZĘŚĆ 1 PIESI

ZDJĘCIE Piesi przechodzą przez przejście.

Czy w tej sytuacji masz pierwszeństwo przed pieszymi?

NIE

KLIP Znak *Stop* oraz *zielone światło* na sygnalizatorze, w pobliżu przejście dla pieszych.

Czy powinien się zatrzymać?

NIE

KLIP Wjeżdżamy w obszar oznaczony znakiem *Strefa zamieszkania*.

Czy w tej sytuacji pieszy zawsze ma pierwszeństwo?

TAK

KLIP Wjeżdżamy w obszar oznaczony znakiem *Strefa ruchu*.

Czy w tej sytuacji pieszy zawsze ma pierwszeństwo?

NIE (tylko wówczas, gdy kierujący wykonuje jakiś manewr np. zawracanie)

KLIP Pieszy (nie jest osobą o widocznej niepełnosprawności) przechodzi przez jezdnię poza przejściem dla pieszych – w niedozwolonym miejscu.

Czy w tej sytuacji mamy obowiązek ustąpienia pierwszeństwa pieszemu?

NIE

ZDJĘCIE Przy ulicy idzie zataczający się człowiek, nagle wchodzi na jezdnię.

Czy można przejechać obok niego, nie zwracając na niego uwagi?

NIE

KLIP. Kierujący zbliża się do przejścia dla pieszych. Na sygnalizatorze nadawany sygnal zielony dla kierującego, piesi stoją po obu stronach przejścia, oczekując na zmianę sygnału.

Czy w tej sytuacji powinniśmy uważnie obserwować pieszych?

TAK

KLIP Jedziemy drogą, widzimy znak D-6 *przejście dla pieszych*

Czy w tym przypadku powinniśmy zmniejszyć prędkość?

TAK

KLIP Kierujący jedzie z prędkością ok. 45 km/h, po lewej stronie dostrzega mężczyznę wchodzącego na wysepkę dla pieszych.

Czy w tej sytuacji należy zmniejszyć prędkość?

TAK

KLIP. Przejeżdżam przez przejście dla pieszych tuż obok przystanku autobusowego.

Czy mam obowiązek zachować szczególną ostrożność?

www.da-car.info



KLIP Lewym poboczem z przeciwka idzie zataczający się człowiek, prawdopodobnie pijany. Kierowca rozpoczynając manewr wyprzedzania, dostrzega tego pieszego.

Czy w tej sytuacji powinien powstrzymać się od manewru wyprzedzania?

TAK

KLIP Na chodniku po prawej stronie idą dzieci, jedno z nich bardzo blisko krawędzi.

Czy w tej sytuacji powinieneś odjechać od prawej krawędzi jezdni?

TAK

KLIP Samochód stoi przed przejściem dla pieszych, na skrzyżowaniu (prawdopodobnie zatrzymał się w celu przepuszczenia pieszych).

Czy mogą ominąć ten pojazd?

NIE

KLIP Kierujący zbliża się do przejazdu dla rowerzystów.

Czy w tym miejscu można wyprzedzać?

NIE

ZDJĘCIE Czy mamy obowiązek ustąpić pierwszeństwa rowerzyście, który wjeżdża na przejście dla pieszych?

NIE

ZDJĘCIE Czy mamy obowiązek ustąpić pierwszeństwa rowerzyście, który wjeżdża na przejazd dla rowerzystów?

TAK

KLIP Kierujący zbliża się do przejścia dla pieszych, na chodniku stoi kobieta ;) nie wykazująca chęci wejścia na przejście (patrzy w innym kierunku). Gdy kierujący jest w niewielkiej odległości od przejścia, piesza wchodzi na pasy.

Czy w tej sytuacji mamy do czynienia z wtargnięciem pieszego na przejście?

TAK

ZDJĘCIE Czy linia przerywana, przed przejściem dla pieszych (składająca się z prostokątów) jest linią warunkowego zatrzymania?

TAK

CZĘŚĆ 2

WYPADKI / BEZPIECZEŃSTWO / PIERWSZA POMOC

KLIP Pieszy zostaje potrącony przez pojazd, wytacza się na jezdnię blokując przejazd.

Czy mam uniemożliwić kierowcy/sprawcy dalszą jazdę poprzez zaciągnięcie hamulca ręcznego.

TAK

ZDJĘCIE Czy u poszkodowanego u którego podejrzewamy wstrząs można podać wodę do picia?

NIE

ZDJĘCIE Czy zawsze należy wyciągnąć poszkodowanego z samochodu?

NIE (/musimy to zrobić w sytuacji, gdy u poszkodowanego zanikły funkcje życiowe i niezbędne jest przeprowadzenie resuscytacji)

KLIP Widzimy samochód, w którym kierowca siedzi z głową opartą o kierownicę. Czy powinniśmy zatrzymać swój pojazd i zainteresować się tą osobą?

Tak

KLIP Pieszy zostaje potrącony przez pojazd, wytacza się na jezdnię blokując przejazd.

Czy w tej sytuacji powinieneś jechać dalej?

NIE

Czy w tej sytuacji masz obowiązek pozostać na miejscu wypadku?

TAK

KLIP Pieszy zostaje potrącony przez pojazd, wytacza się na jezdnię blokując przejazd.

Czy w tej sytuacji powinieneś namawiać kierowcę do pozostania na miejscu do przyjazdu służb ratunkowych

TAK

ZDJĘCIE Na poboczu leży człowiek.

Czy w tej sytuacji masz obowiązek niezwłocznie się zatrzymać i wezwać służby ratownicze?

TAK

KLIP Pieszy zostaje potrącony przez kierowcę.

Czy sprawca wypadku, wiedząc że pogotowie zostało już wezwane, może przewieźć poszkodowanego do szpitala?

NIE

ZDJĘCIE Jak możesz pomóc, jeśli zimą dostrzeżesz na poboczu siniego, zamarzającego, półprzytomnego człowieka?

Odp. Powinieneś zabrać go do samochodu, okryć i powoli ogrzewać

KLIP Dymiący się pojazd

Czy powinieneś, nie narażając swojego zdrowia ewakuować poszkodowanego?

TAK

Czy w czasie gaszenia silnika gaśnicą właściwym jest **nie** podnoszenie pokrywy komory silnika do samej góry?

TAK

Czy w tej sytuacji mamy obowiązek zabezpieczyć miejsce zdarzenia?

TAK

ZDJĘCIE W jaki sposób musi być zamocowana gaśnica w samochodzie (w bagażniku, w komorze silnia, pod siedzeniem/ obok pasażera)?

Odp. Pod siedzeniem

KLIP Dymiący się samochód, bardzo niewyraźny film, otwarte drzwi, widać nogi kierowcy.

Czy oprócz straży pożarnej powinieneś wezwać również karetkę?

TAK

ZDJĘCIE Jesteś świadkiem wypadku, wzywasz - telefonicznie pogotowie. Jakie informację powinieneś przekazać?

Odp. Miejsce zdarzenia, następnie inne szczegóły – szacowana liczba ofiar

ZDJĘCIE Będąc na miejscu wypadku, kiedy będziemy pociągnięci do odpowiedzialności karnej:

Odp. Podczas zaniechania udzielenia pierwszej pomocy ofiarom wypadku

ZDJĘCIE Czy musimy udzielić pierwszej pomocy będąc świadkiem wypadku?

Odp. Tak, zawsze musimy udzielić pierwszej pomocy przedmedycznej

ZDJĘCIE Czy zaraz po znieczuleniu miejscowym można prowadzić samochód?

NIE



ZDJĘCIE Czy leki antydepresyjne w pierwszym stadium zażywania mogą powodować pogorszenie się wzroku lub zmniejszenie ostrości widzenia?

TAK

ZDJĘCIE Czy jako kierujący pojazdem, masz obowiązek sprawdzić, czy leki, które przyjmujesz, nie wywołują u Ciebie niebezpiecznych reakcji psychofizycznych?

TAK

ZDJĘCIE Czy osoba po zażyciu niewielkiej ilości narkotyków ma lepszą zdolność obserwacji?

NIE

ZDJĘCIE Czy działanie niektórych leków na organizm kierującego, może być podobne do działania alkoholu?

TAK

ZDJĘCIE Czy zawsze po zażyciu leków przepisanych przez lekarza możemy prowadzić?

NIE

ZDJĘCIE Czy zażywanie leków uspokajających może wpływać na kłopoty z utrzymaniem właściwego toru jazdy?

TAK

ZDJĘCIE Czy przepisy mówią przy jakim stężeniu alkoholu we krwi, nie wolno prowadzić samochodu osobowego?

Odp. Tak - przy stężeniu powyżej 0,2 promila

ZDJĘCIE Kiedy u kierowcy zachodzi do stanu „po spożyciu alkoholu”?

Odp. Przy stężeniu alkoholu we krwi pomiędzy 0,2 – 0,5 promila / gdy obecność alkoholu w 1dm³ wydychanego powietrza wynosi pomiędzy 0,1 – 0,25 mg

ZDJĘCIE Kiedy u kierowcy zachodzi do stanu „nietrzeźwości”?

Odp. Przy stężeniu alkoholu we krwi powyżej 0,5 promila / gdy obecność alkoholu w 1dm³ wydychanego powietrza wynosi powyżej 0,25 mg

ZDJĘCIE Czy nawet po spożyciu niewielkiej ilości alkoholu u kierowcy **zwiększa się** (/wydłuża) czas reakcji?

TAK

ZDJĘCIE Czy pojazd może być usunięty z drogi na koszt właściciela, jeżeli nie ma możliwości zabezpieczenia go w inny sposób, gdy kierujący nim znajduje się w stanie nietrzeźwości?

TAK

ZDJĘCIE Czy zbyt intensywny zapach perfum może wpływać na osłabienie reakcji kierującego?

TAK

ZDJĘCIE W jakich przypadkach nie stosuje się defibrylatora AED?

Odp. W strugach deszczu

ZDJĘCIE U której osoby nie zastosowałbyś defibrylatora (kobieta w ciąży, dziecka poniżej 1. roku życia, osoby niepełnosprawnej)?

Odp. Dziecko poniżej 1 roku życia

ZDJĘCIE Czy pozycja boczna ustalona jest dla osoby nieprzytomnej ale oddychającej bezpieczna?

Odp. Tak, ponieważ pozycja ta pozwala udrożnić drogi oddechowe poszkodowanego

ZDJĘCIE Po jakim czasie od znieczulenia miejscowego zęba mogą prowadzić?

Odp. Po dwóch godzinach

ZDJĘCIE Co należy zrobić, gdy wyczuwamy puls osoby poszkodowanej w wypadku, jednak osoba ta nie oddycha?

Odp. Wyjąć zawartość z ust, a gdy poszkodowany nadal nie oddycha rozpocząć resuscytację

ZDJĘCIE W jaki sposób należy reanimować dziecko w wieku szkolno-przedszkolnym?

Odp. 5 wdechów ratunkowych i 30 uciśnień, 2 wdechy

ZDJĘCIE Manekin (fantom). W jakim czasie po ustaniu krążenia dochodzi do nieodwracalnych zmian w mózgu?

Odp. 4,5 min

ZDJĘCIE Będąc na miejscu wypadku widzisz, że ofiara ma mocno poszarpane przedramię, które krwawi, co robisz?

Odp. Zakładam opatrunek z gazy jałowej, obwiązuję bandażem, unieruchamiam bliskie stawy

ZDJĘCIE Przedramię z krwawiącą raną. Co zrobić?

Odp. Nałożyć uciskowy opatrunek z gazy i lekko unieruchomić

ZDJĘCIE Niepokój, szybki oddech, słabo wyczuwalne tętno, bledność, zimny pot na twarzy to objawy:

Odp. Wstrząsu

ZDJĘCIE Kiedy powinieneś zaprzestać czynności reanimacyjnych osoby poszkodowanej w wypadku?

Odp. Po przywróceniu czynności życiowych (tętno, oddech)

ZDJĘCIE Jak długo będziesz stabilizował głowę poszkodowanego (aż zacznie się poruszać, aż zacznie ruszać nogami, do przyjazdu służb ratowniczych)?

Odp. Do przyjazdu służb ratowniczych

ZDJĘCIE Do którego momentu będziesz prowadził masaż serca osobie u której doszło do zatrzymania krążenia (15 min, odzyskania „ciepłoty” ciała, przyjazdu służb)?

Odp. Do przyjazdu służb

ZDJĘCIE Jak długo należy prowadzić sztuczne oddychanie u dziecka (maksymalnie 20 min, usłyszenia sygnału nadjeżdżającego ambulansu, pojawienia się spontanicznych czynności życiowych – oddech, kaszel etc.)?

Odp. Pojawienia się spontanicznych czynności życiowych – oddech, kaszel etc

ZDJĘCIE Poszkodowanemu trzeba założyć jałowy opatrunek, nie masz apteczki. Co zrobisz (nic, poczekam aż ktoś mi pożyczyc apteczkę, użyję części ubrania poszkodowanego)?

Odp. Użyję części ubrania poszkodowanego

ZDJĘCIE Pozycję boczną ustaloną należy stosować u osoby (urazowej, nieurazowej, w nierozpoznanym stanie)?

Odp. Nieurazowej

ZDJĘCIE W przypadku złamanej kończyny należy:

Odp. Unieruchomić miejsce złamania i najbliższe stawy

ZDJĘCIE Jaki obowiązek ciąży na kierującym pojazdem uczestniczącym w wypadku drogowym, w którym nie ma osób zabitych lub rannych?

Odp. Zapewnienie bezpieczeństwa w miejscu wypadku

ZDJĘCIE Czego nie musisz robić uczestnicząc w wypadku w którym są ranni lub zabici?

Odp. Przeszawiać swojego auta w bezpieczne miejsce

ZDJĘCIE Jaki obowiązek ciąży na uczestniku wypadku drogowego, w którym nikt nie odniósł obrażeń?

Odp. Podanie swoich danych personalnych i danych dotyczących ubezpieczenia OC

ZDJĘCIE Czy sygnalizowanie postoju uszkodzonego pojazdu na drodze poza obszarem zabudowanym na drodze nie będącej drogą ekspresową lub autostradą polega na umieszczeniu trójkąta ostrzegawczego w odległości 30-50 m za pojazdem?

TAK

ZDJĘCIE W jakiej odległości za pojazdem na autostradzie musisz ustawić trójkąt ostrzegawczy?

Odp. 100 m

ZDJĘCIE Czy masz obowiązek ustawić ostrzegawczy trójkąt odblaskowy 100 m za pojazdem, który się zepsuł i musisz go zatrzymać na drodze ekspresowej?

TAK

ZDJĘCIE Czy uczestnicząc w wypadku na autostradzie, musisz sygnalizować unieruchomienie kierowanego przez siebie pojazdu, poprzez włączenie świateł awaryjnych?

TAK

ZDJĘCIE Czy sygnalizowanie awarii lub wypadku na autostradzie polega na ustawieniu ostrzegawczego trójkąta odblaskowego bezpośrednio za pojazdem? NIE

ZDJĘCIE Czy uszkodzony pojazd na drodze ekspresowej, który ma zepsute światła awaryjne, może zamiast nich włączyć światła postojowe?

Tak

ZDJĘCIE Czy sygnalizując awarię, znajdując się w terenie zabudowanym można umieścić trójkąt ostrzegawczy bezpośrednio za pojazdem (/z tyłu pojazdu)?

ZDJĘCIE Co powinien zrobić kierowca poruszający się po autostradzie, któremu zrobiło się duszno, ręce zaczęły drętwieć i miał kłucie w brzuchu?

Odp. Zjechać na pobocze, wezwać pogotowie i rozpiąć pasy

ZDJĘCIE: Samochód stoi za linią P-19 (linia wyznaczająca pas postojowy)

Czy na terenie zabudowanym podczas dobrej widoczności, w miejscu jak na powyższym zdjęciu, należy sygnalizować awarię pojazdu

NIE

ZDJĘCIE Czy poduszka powietrzna zabezpiecza **całkowicie** przed urazem w razie wypadku?

NIE, tylko częściowo

ZDJĘCIE Jakie warunki trzeba spełnić, by pasy bezpieczeństwa chroniły kierującego i pasażerów?

Odp. Należy je właściwie wyregulować i zapiąć

ZDJĘCIE W jaki sposób należy przewozić rower?

Odp. Używając specjalnych uchwytów, tak aby rower nie zasłaniał żadnych świateł

ZDJĘCIE W jaki sposób należy łączyć ładunek w przyczepie?

Odp. Tak, aby nie naruszał stateczności zespołu pojazdów

Świebodzice

Świebodzice

Świebodzice

Świebodzice

Świebodzice

Świebodzice

Świebodzice

Świebodzice

Świebodzice

Świebodzice

Świebodzice

Świebodzice

Świebodzice

Świebodzice

Świebodzice

Świebodzice

Świebodzice

Świebodzice

Świebodzice

tel. 727 580 777

tel. 601 770 139

www.dacar.info



ZDJĘCIE W jaki sposób należy przewozić ładunek ponad-gabarytowy w przyczepie?

Odp. Tak, aby nie zasłaniał żadnych świateł

ZDJĘCIE W jaki sposób należy przewozić sypki ładunek (piasek) w przyczepie?

Odp. Szczelnie go przykrywając/ przewożąc w zabezpieczonej skrzyni

ZDJĘCIE Jak należy przewozić bagaż w trakcie podróży?

Odp. Ciężkie przedmioty powinny znajdować się głęboko, lżejsze na wierzchu

ZDJĘCIE Jak powinien być zabezpieczony ładunek w samochodzie?

Odp. Stabilnie

ZDJĘCIE Na jaką odległość może wystawać ładunek od tylnej płaszczyzny obrysu pojazdu:

Odp. 2 m (gdy wystaje powyżej 0,5 m musi być dodatkowo oznakowany biało-czerwonymi pasami)

ZDJĘCIE Na jaką maksymalną odległość może wystawać ładunek z przodu pojazdu?

Odp. 0,5 m od przedniego obrysu samochodu oraz 1,5 m od fotela kierowcy

ZDJĘCIE Co wolno kierowca jadącemu w terenie zabudowanym (odpiąć pasy, korzystać z telefonu bez zestawu głośnomówiącego, korzystać z nawigacji – która podaje informację dotyczącą rozmieszczenia fotoradarów)?

Odp. Korzystać z nawigacji – która....

ZDJĘCIE Kogo obowiązuje korzystanie z pasów bezpieczeństwa (pasażera, kobieta w widocznej ciąży, osoba z orzeczeniem lekarskim dotyczącym przeciwwskazań jazdy w pasach)?

Odp. Pasażera

ZDJĘCIE Czy można umieścić dziecko w foteliku na przednim fotelu, tyłem do kierunku jazdy?

Odp. Tak, ale pod warunkiem dezaktywacji poduszki powietrznej

ZDJĘCIE Czy można przewozić dziecko w foteliku na przednim fotelu w samochodzie z aktywną poduszką powietrzną?

Odp. Tak, ale przodem do kierunku jazdy w foteliku ochronnym

ZDJĘCIE W jaki sposób przewieziemy dziecko poniżej 12 roku życia i poniżej 150 cm wzrostu, samochodem osobowym

Odp. Na specjalnie przystosowanej podkładce

ZDJĘCIE Czy jest prawny zakaz przewożenia niemowlaka na kolanach osoby dorosłej?

TAK

ZDJĘCIE Czy noworodka w samochodzie osobowym można przewozić w dowolny sposób?

Odp. Nie, jest to możliwe tylko w odpowiednim dla noworodka foteliku ochronnym

ZDJĘCIE Jaki odstęp należy zachować do pojazdu poprzedzającego (jadącego przed nami)?

Bezpieczny – zależny od warunków

ZDJĘCIE Jaki odstęp należy zachować do pojazdu poprzedzającego, jadąc w korku, w tunelu?

Odp. Nie mniejszy niż 5 m

ZDJĘCIE Jaki odstęp powinieneś zachować od poprzedzającego pojazdu podczas kierowania zespołem pojazdów o długości przekraczającej 7m?

Odp. W umożliwiający wyprzedzającym cię pojazdom wjechanie w pozostawioną lukę

ZDJĘCIE Jaki odstęp należy zachować między kolumnami pojazdów samochodowych.

Odp. Nie mniej niż 500m

www.da-car.info



ZDJĘCIE Czy można wjechać między rowerzystów jadących w kolumnie?

NIE

ZDJĘCIE Liczba pojazdów jadących w zorganizowanej kolumnie nie może przekraczać (nie wiem jakie były dostępne odpowiedzi, poniżej wszystkie możliwe:

Odp. 1 Samochodów osobowych, motorowerów lub motocykli - 10;

Odp. 2 Rowerów lub wózków rowerowych - 15;

Odp. 3 Pozostałych pojazdów - 5.

ZDJĘCIE Który opis jest zgodny z przepisami, jeśli kierując zespołem pojazdów, o długości przekraczającej 7m, chcesz zachować zgodny z przepisami odstęp od poprzedzającego pojazdu?

Odp. Odstęp musi umożliwić wjechanie w pozostawioną lukę wyprzedzającym Cię pojazdom;

ZDJĘCIE Co nazywamy zespołem pojazdów?

Odp. Samochód osobowy z przyczepą kempingową (/ewentualnie przyczepą lekką)

Nie szukaj najbliższej szkoły, wybierz najlepszą!

CZĘŚĆ 3 OBSŁUGA SAMOCHODU etc.

ZDJĘCIE Czy objawem zapowietrzenia układu hamulcowego jest "miękki" pedał hamulca "rosnący" przy każdym kolejnym wciskaniu pedału hamulca?

TAK

ZDJĘCIE Jak trzeba zachować się podczas awarii ABS-u.

Odp. Hamować pulsacyjnie

ZDJĘCIE Jaką technikę hamowania awaryjnego należy stosować, w samochodzie osobowym, wyposażonym w system przeciwblokujący ABS?

Odp. Mocno wcisnąć pedał hamulca i nie zwalniać go, do momentu, gdy zadziała układ ABS

ZDJĘCIE Jeśli pojazd wyposażony został w układ ABS, podczas gwałtownego hamowania kierujący powinien:

Odp. Skoncentrować się także na ewentualnym korygowaniu toru ruchu kołem kierownicy

ZDJĘCIE Na co wpływ ma ABS?

Odp. Ułatwia ominięcie przeszkody (nie zawsze skraca drogę hamowania)

ZDJĘCIE Co zrobić, jeśli podczas hamowania pojazdem wyposażonym w ABS pocujemy, że pedał hamulca „podbija nam do góry”?

Odp. Utrzymać nacisk na hamulec

ZDJĘCIE Z którym z poniższych układów (kierowniczy, hamulcowy) współpracuje system ABS?

Odp. Hamulcowy

ZDJĘCIE Do czego służy system ABS?

Odp. Zapobiega blokowaniu kół podczas hamowania

ZDJĘCIE Jedziesz z prędkością 80 km/h pojazdem bez systemu ABS, w jaki sposób należy ominąć przeszkodę która nagle pojawiła się na drodze?

Odp. Puścić pedał hamulca tuż przed rozpoczęciem manewru omijania

ZDJĘCIE Co to jest układ ASR (układ stabilizujący tor jazdy, układ zapobiegający blokowaniu się kół, układ stosowany w pojazdach zapobiegający poślizgu kół podczas ruszania)?

Odp. Układ zapobiegający poślizgu kół podczas ruszania

ZDJĘCIE Która z poniższych usterek wyklucza jazdę (skrzywiona rura wydechowa, porysowany lakier, uszkodzony resor)?

Odp. Uszkodzony resor

ZDJĘCIE Która z poniższych usterek wyklucza jazdę (brak osłony silnika, niesprawne przednie amortyzatory, podarta tapicerka)?

Odp. Uszkodzone amortyzatory

ZDJĘCIE Która z poniższych usterek wyklucza jazdę (uszkodzona tabliczka znamionowa, wytarte klocki hamulcowe, uszkodzony lakier)?

Odp. Uszkodzone klocki

ZDJĘCIE Która z poniższych usterek wyklucza jazdę (zanieczyszczony filtr powietrza, przegrzewające się świece, uszkodzony wahacz)?

Odp. Uszkodzony wahacz

ZDJĘCIE Która z poniższych usterek wyklucza jazdę (poluzowany śruby pokrywy zaworów, porysowane klosze świateł przeciwmgielnych, popękana tarcza hamulcowa)?

Odp. Uszkodzona tarcza hamulcowa

ZDJĘCIE Która z poniższych usterek **nie** wyklucza jazdy (przerwany przewód paliwa, nieszczelny tłumik, rysy na lampie biegu wstecznego)?

Odp. Rysy na lampie

ZDJĘCIE Która z poniższych usterek **nie** wyklucza jazdy (ślady oleju na klockach hamulcowych, niesprawne wycieraczki, uszkodzona tapicerka)?

Odp. Uszkodzona tapicerka

Co się stanie jeśli pęknie rurka od płynu hamulcowego (cylinder)?

Odp. Zapowietrzy się układ hamulcowy i siła hamowania zmaleje

ZDJĘCIE Zaświecenie się na desce rozdzielczej kontrolki jakiej barwy może wymagać przerwania jazdy?

Odp. Czerwonej

ZDJĘCIE Co należy zrobić, gdy w pojeździe zapali się czerwona kontrolka?

Odp. Zatrzymać się i sprawdzić pojazd

ZDJĘCIE Czerwona kontrolka z symbolem akumulatora

O czym informuje widoczna kontrolka?

Odp. Nieprawidłowe ładowanie

ZDJĘCIE Czerwona kontrolka płynu chłodzącego

O czym informuje widoczna kontrolka?

Odp. Zbyt wysoka temperatura płynu chłodzącego

ZDJĘCIE Czy ubytek płynu chłodzącego można awaryjnie uzupełnić wodą?

TAK

ZDJĘCIE Kiedy zaleca się sprawdzić poziom płynu chłodniczego?

Odp. Przy zimnym silniku

ZDJĘCIE Jaką ilość płynu chłodniczego powinien mieć Twój samochód?

Odp. Pomiędzy minimum a maksimum

ZDJĘCIE Kiedy musimy wymienić opony w samochodzie?

Odp. Gdy wysokość bieżnika wynosi 1,5 mm

ZDJĘCIE Co się stanie jeżeli bieżnik opon jest mniejszy niż 2 mm?

Odp. zmniejszy się tarcie i zmniejszy się siła hamowania

ZDJĘCIE Kiedy przed podróżą należy sprawdzić ciśnienie w oponach?

Odp. 1h przed rozpoczęciem jazdy

ZDJĘCIE Kiedy należy wyważać koła?

Odp. Każdorazowo po zmianie opon

ZDJĘCIE Czy w Polsce jest prawny obowiązek wymiany opon na letnie?

NIE

ZDJĘCIE Co zalicza się do codziennej obsługi pojazdu?

Odp. Kontrolę czystości tablic rejestracyjnych

ZDJĘCIE Jaki może być skutek niezadziałania świateł hamowania w pojeździe?

Odp. Wypadek lub kolizja drogowa.

ZDJĘCIE Czy gdy jeden kierunkowskaz nie działa, drugi pobiera więcej prądu?

TAK

ZDJĘCIE Jeżeli migacz miga bardzo szybko co to oznacza?

Odp. Przepalona żarówka kierunkowskazu

ZDJĘCIE Jeśli przypali się żarówka halogenowa czy mogę ją wymienić na ksenonową?

Odp. Nie, bo oślepi innych kierowców

ZDJĘCIE Czy luz na kierownicy może być spowodowany wybitymi końcówkami (/starciami) drążków kierowniczych?

TAK

ZDJĘCIE Co obowiązkowo należy mieć w samochodzie?

Odp. Gaśnica

ZDJĘCIE Które z wymienionych elementów (trójkąt, żarówka zapasowe, urządzenie głośnomówiące) należy do obowiązkowego wyposażenia każdego samochodu osobowego?

Odp. Ostrzegawczy trójkąt odblaskowy

ZDJĘCIE Czy apteczka doraźnej pomocy jest obowiązkowym wyposażeniem każdego pojazdu samochodowego?

Odp. Nie, ale warto ją mieć

ZDJĘCIE Jak powinien być ustawiony zagłówek?

Odp. Na równi z czubkiem głowy

ZDJĘCIE Jak powinien być ustawiony fotel kierowcy?

Odp. Tak aby mieć swobodny dostęp do obsługiwanych urządzeń

ZDJĘCIE Czym będzie skutkowało zbytne przybliżenie fotela do kierownicy?

Odp. Będzie utrudniony dostęp do przyrządów sterujących

ZDJĘCIE Co się może wydarzyć z powodu nie wyważenia kół jednych w samochodzie?

Centrum Szkolenia Kierowców
DACA
Lukasz Moszumański
ul. Parkowa 7
58-100 Świebodzice

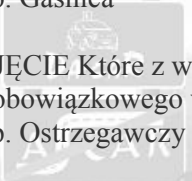
**Nie szukaj najbliższej szkoły,
wybierz najlepszą!**

Kursy na Prawo Jazdy kat. B.
(Godziny doszkalające w zakresie teorii oraz praktyki)

tel. 727 580 777
tel. 601 770 139

Dojeżdż do nas na facebooku

www.daca-car.info



Odp. Zużycie bieżnika opony będzie nierównomierne

ZDJĘCIE Co się dzieje przy nieszczelnym układzie wydechowym?

Odp. Powoduje nadmierny hałas

ZDJĘCIE Jaka pozycja za kierownicą umożliwia zmniejszenie efektu tzw. martwego pola w lusterkach występującego w czasie obserwacji drogi?

Odp. Dynamiczna - w zależności od sytuacji odchylenie tułowia i głowy od fotela

ZDJĘCIE Co Ci grozi, gdy skręcasz na oblodzonym skrzyżowaniu?

Odp. Utrudnione skręcanie - zmniejszona przyczepność kół do nawierzchni

ZDJĘCIE Czy sprawny amortyzator ma wpływ na bezpieczeństwo jazdy?

TAK

ZDJĘCIE Co się dzieje przy nieszczelnym układzie wydechowym?

Odp. Zwiększony poziom hałasu

ZDJĘCIE Czy używanie tempomatu zmniejszy zużycie ilości paliwa?

TAK

ZDJĘCIE Maksymalny czas włączenia rozrusznika gdy silnik nie daje się uruchomić to:

Odp. 5-10 sekund

ZDJĘCIE Jaki będzie skutek niezatrzymania samochodu po zapaleniu czerwonej lampki od oleju silnikowego?

Odp. Zatarcie się silnika

ZDJĘCIE Przyczyną nieosiągnięcia przez silnik o zapłonie samoczynnym obrotów rozruchowych może być:

Odp. Niesprawny rozrusznik

ZDJĘCIE Jaką ilość płynu chłodniczego powinien mieć Twój samochód?

Odp. Pomiędzy minimum a maksimum

ZDJĘCIE Co świadczy o złym eksploataowaniu pojazdu?

Odp. Wyciekające płyny podczas postoju

ZDJĘCIE Czy gdy wyjmemy koło zapasowe z bagażnika, samochód pojedzie szybciej (głupie jest to pytanie)

NIE

ZDJĘCIE W jaki sposób ustawić lusterko wsteczne?

Odp. Aby było widać tylnia szybę i drogę za pojazdem

ZDJĘCIE Jak powinno być ustawione lusterko wewnętrzne?

Odp. Tak by widzieć szybę tylną i drogę za nami

ZDJĘCIE Kiedy źle ustawione lusterka są szczególnie niebezpieczne?

Odp. Podczas zmiany pasa ruchu

ZDJĘCIE Co powodują zepsute/zniszczone piórka wycieraczek?

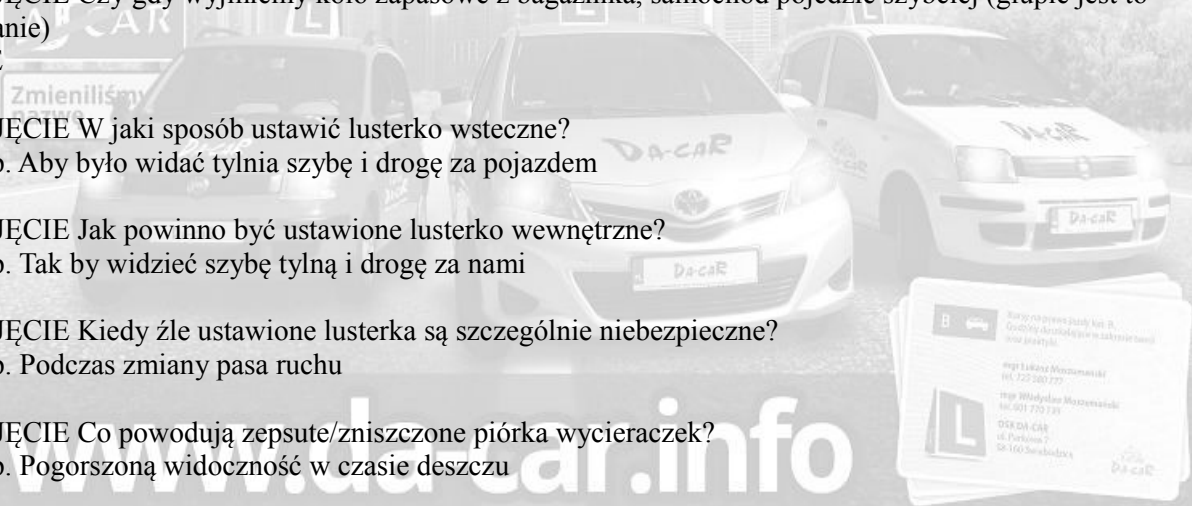
Odp. Pogorszą widoczność w czasie deszczu

ZDJĘCIE Do czego służy poduszka powietrzna?

Ośrodek Szkolenia Kierowców
DACA-CAR
Włodzisław Moszumański
ul. Parkowa 7
58-160 Świebodzice
Nie szukaj najbliższej szkoły,
wybierz najlepszą!

Kursy na Prawo Jazdy kat. B.
(Godziny doszkalające w zakresie teorii oraz praktyki)

Swiebodzice
tel. 727 580 777
Lubię to!
tel. 601 770 139



Odp. Zmniejsza obrażenia pasażera podczas wypadku

ZDJĘCIE Do czego służą pasy bezpieczeństwa?

Odp. Zmniejsza obrażenia pasażera podczas wypadku

ZDJĘCIE Jakie warunki trzeba spełnić, by pasy bezpieczeństwa chroniły kierującego i pasażerów?

Odp. Należy je właściwie wyregulować i zapiąć

ZDJĘCIE Jaką funkcję w pojeździe pełni zagłówek?

Odp. Chroni szyję (górny odcinek kręgosłupa)

ZDJĘCIE Na których siedzeniach w samochodzie osobowym jadący ma obowiązek korzystania z pasów bezpieczeństwa?

Odp. Na wszystkich siedzeniach

ZDJĘCIE Dźwięk klaksonu musi być?

Odp. Ciągły nieprzerazający

KLIP. Obszar zabudowany, droga, pasy przedzielone barierką. Pod koniec filmu z prawej strony wyjeżdża na drogę pojazd – wymuszający na nas pierwszeństwo.

Czy w tej sytuacji zabronione jest użycie klaksonu?

NIE

ZDJĘCIE Co uniemożliwia prawidłowe działanie pasów bezpieczeństwa?

Odp. Ich skrócenie

ZDJĘCIE Kierującemu samochodem osobowym zezwala się?

Odp. Używania okularów słonecznych



tel 727 580 777

CZĘŚĆ 4
ZNAKI

tel 601 770 139

ZDJĘCIE Znak A28 (*sypki żwir*)

Czy ten znak ostrzega o możliwości napotkania odłamków skalnych?

NIE

ZDJĘCIE Znak A-32 (*oszronienie jezdni*)

Czy widząc taki znak możesz spodziewać się gołoledzi?

TAK

ZDJĘCIE Zdjęcie. Znak A-3 (*niebezpieczne zakręty, pierwszy w prawo*) z tabliczką T-5 (*droga kręta*)

Czy za tym znakiem będziesz ostrzegany jeszcze o niebezpiecznych zakrętach?

NIE

ZDJĘCIE Znak A-11 (*nierówna droga*)

Czy znak ten ostrzega o progu zastosowanym w celu spowolnienia pojazdów?

NIE

ZDJĘCIE Znak A-22 Czy ten znak informuje nas o stromym podejździe?

NIE

ZDJĘCIE Znak A-19 (*boczny wiatr*)

www.da-car.info



O czym ostrzega widoczny znak?

Odp. Podmuchy wiatru z lewej i prawej strony.

ZDJĘCIE Znak A-28 (*sypki żwir*)

Czy jadąc tak oznakowaną drogą, możemy spodziewać się, że spod kół innych pojazdów będzie wyrzucany żwir/grys?

TAK

ZDJĘCIE Znak A-24 (*rowerzyści*)

Czy ten znak ostrzega o miejscu, gdzie rowerzyści wyjeżdżają na drogę ze ścieżki rowerowej?

TAK

ZDJĘCIE Znak A-11 (*nierówna droga*), pod nim tabliczka T-1 25 m.

Czy znak ten oznacza odległość od miejsca niebezpiecznego?

TAK

ZDJĘCIE Znak A-22 (*niebezpieczny zjazd*)

Czy znak ten informuje o stromym podjeździe?

NIE

ZDJĘCIE Znak A-23 (*stromy podjazd*)

Czy ten znak ostrzega o znacznym wzniesieniu drogi?

TAK

ZDJĘCIE Znak A-10 (*przejazd kolejowy bez zapór*).

Czy za tym znakiem mogą pojawić się zapory/ półzapory?

NIE

ZDJĘCIE Znak A-9 (*przejazd kolejowy z zaporami*).

Czy zawsze mamy obowiązek rozejrzenia się zanim wjedziemy na przejazd kolejowy?

TAK

ZDJĘCIE Znak A-3 (*niebezpieczne zakręty, pierwszy w prawo*) oraz tabliczka z napisem koniec.

Czy znak ten oznacza koniec zakrętów?

TAK

ZDJĘCIE Znak D-43 (*koniec obszaru zabudowanego*)

Czy w tej sytuacji opuszczasz obszar zabudowany?

TAK

ZDJĘCIE Znak D-43 (*koniec obszaru zabudowanego*)

Czy za tym znakiem można zwiększyć prędkość?

TAK

ZDJĘCIE Znak ostrzegawczy A-8 (*skrzyżowanie z ruchem okrężnym*).

Czy zbliżasz się do skrzyżowania z ruchem okrężnym?

TAK

ZDJĘCIE Znak A-6a (*skrzyżowanie z drogą podporządkowaną występującą po obu stronach drogi*)

Czy skręcając w prawo masz pierwszeństwo przed samochodem z naprzeciwka, który skręca w lewo?

TAK

ZDJĘCIE A-11a (*próg zwalniający*)

Czy znak ten ostrzega nas o niebezpieczeństwie?

TAK

ZDJĘCIE Znak A-11 (*nierówna droga*).

DA-CAR **tukasz Moszumański**

ul. Parkowa 7
58-160 Świebodzice

**Nie szukaj najbliższej szkoły,
wybierz najlepszą!**

Kursy na Prawo Jazdy kat. B.

(Ciekawość dostaję jako zakres teorii oraz praktyki)

Świebodzice
na facebooku
tel. 727 580 777

tel. 601 770 139

Zmieniliśmy

www.da-car.info



Czy znak ten ostrzega o progu zastosowanym w celu spowolnienia ruchu?

NIE

ZDJĘCIE Znak A-4 (*niebezpieczny zakręt, pierwszy w lewo*)

Czy ten znak ostrzega o niebezpiecznym zakręcie w lewo?

TAK

ZDJĘCIE Skrzyżowanie oznaczone znakiem A-5 (*skrzyżowanie dróg - równorzędne*)

Czy za tym znakiem powinieneś spodziewać się innych znaków określających pierwszeństwo przejazdu na skrzyżowaniu?

NIE

ZDJĘCIE Znak A-1 (*niebezpieczny zakręt w prawo*).

Czy znak ostrzega o pojedynczym zakręcie?

TAK

ZDJĘCIE Znak A-20 (*odcinek jezdni o ruchu dwukierunkowym*).

Czy ten znak oznacza wjazd na drogę dwukierunkową?

TAK

ZDJĘCIE Który ze znaków zabrania wjazdu samochodom ciężarowym o masie nieprzekraczającej 3,5 t?

Odp. B-3 (*zakaz wjazdu pojazdów silnikowych z wyjątkiem motocykli jednośladowych*)

ZDJĘCIE Który ze znaków zabrania wjazdu samochodom osobowym?

Odp. B-3 (*zakaz wjazdu...*)

ZDJĘCIE Który ze znaków dotyczy samochodu z przyczepą kempingową?

Odp. B-3 (*zakaz wjazdu...*)

ZDJĘCIE Który ze znaków zabrania wjazdu samochodowi osobowemu z przyczepą lekką?

Odp. B-3 (*zakaz wjazdu...*)

ZDJĘCIE Czy znak B35 (*zakaz postoju*) dotyczy również kolumny pieszych?

TAK

ZDJĘCIE Znak B-36 (*zakaz zatrzymywania się*). Czy za znakiem można się zatrzymać na czas krótszy niż 1 minuta?

NIE

ZDJĘCIE Który ze znaków zabrania wjazdu samochodem ciężarowym o masie nie przekraczającej 3,5t?

Odp. B-3 (*zakaz wjazdu pojazdów silnikowych*)

ZDJĘCIE Który znak zabrania wjazdu samochodom osobowym?

Odp. B-3 (*zakaz wjazdu pojazdów silnikowych*)

ZDJĘCIE Znak *zakaz zawracania*. Czy widząc ten znak zabrania zawracania od miejsca znaku do najbliższego skrzyżowania włącznie?

TAK

ZDJĘCIE Znak B-5 (*zakaz wjazdu samochodów ciężarowych*)

Jakim samochodom widoczny znak zakazuje wjazdu?

Odp. Samochodom ciężarowym o dmc powyżej 3,5 t

ZDJĘCIE Znak B-33 – ograniczenie prędkości do 40 km/h wraz z tabliczką T-23b (*symbol ciężarówki*)

Kogo dotyczy ten znak?

Odp. Kierującego pojazdem o dmc powyżej 3,5 t.

ZDJĘCIE Po prawej znak B-36 *zakaz zatrzymywania* się z tabliczką T-25a (*strzałka w górę*).

Czy zakaz obowiązuje od tego znaku?

TAK

ZDJĘCIE Znak B-23 (*zakaz zawracania*)

Czy ten znak obowiązuje do najbliższego skrzyżowania włącznie?

TAK

ZDJĘCIE Znak B-36 wraz z tabliczką T-24

Czy w tej sytuacji zaparkowany samochód będzie odholowany na koszt właściciela?

TAK

ZDJĘCIE Znak P-7a - *linia krawężniowa przerywana*

Czy widoczny znak poziomy oznacza obszar wyłączony z ruchu?

NIE

ZDJĘCIE Znak D-4a Czy za tym znakiem możemy zawrócić?

TAK

KLIP Droga, widoczny znak STOP, parę metrów za nim linia ciągła (*bezwzględne zatrzymanie*). Czy masz się zatrzymać przed znakiem STOP?

NIE

ZDJĘCIE Czy migające żółte światło na sygnalizacji świetlnej uchyla pierwszeństwo ustalone przez znaki drogowe?

NIE

ZDJĘCIE Na jednym słupku znak E-17a (*miejsowość – zielona tablica z nazwą miejscowości*) oraz B-33 z ograniczeniem prędkości do 60 km/h

Z jaką prędkością możesz się poruszać?

Odp. 60 km/h

ZDJĘCIE Teren zabudowany oraz znak ograniczenie prędkości do 40 km/h wraz z tabliczką T-23a (*symbol motocykla*).

Z jaką maksymalną prędkością możesz poruszać się samochodem osobowym?

Odp. 50 km/h (w godz. 5.00 – 23.00)

ZDJĘCIE Sygnalizator świetlny – pomarańczowe.

Jakie światło pojawi się następane?

Odp. Czerwone

ZDJĘCIE Sygnalizator pokazuje czerwone i żółte. Czy za chwilę zapali się sygnał zielony na sygnalizacji?

TAK

ZDJĘCIE Znak D-18 (*parking, bez żadnej dodatkowej tabliczki*)

W jaki sposób można zaparkować pojazd na jezdni?

Odp. Równoległe do krawężni jezdni

ZDJĘCIE Znak D-18 oraz tabliczka T-30 (widoczny pojazd ustawiony prostopadłe do krawężnika)

W jaki sposób można zaparkować pojazd na jezdni?

Odp. Prostopadłe do krawężnika

ZDJĘCIE Znak D-18

Kogo dotyczy ten znak?

Odp. Samochodów osobowych

ZDJĘCIE Na pasie zieleni, rozdzielającym jezdnie znak *zakaz zawracania* B-23.

Czy w tej sytuacji można skręcić w lewo?

TAK

KLIP Znak D-3 – *droga jednokierunkowa*, a pod nim tabliczka – *nie dotyczy rowerzystów*.

Czy na tej drodze możesz spodziewać się rowerzystów nadjeżdżających z naprzeciwka?

TAK

ZDJĘCIE Znak D-42 (*obszar zabudowany*)

Czy znak ten zabrania używania świateł drogowych?

NIE

ZDJĘCIE Znak D-40 (*strefa zamieszkania*).

Czy za tym znakiem mogą występować progi spowalniające?

TAK

ZDJĘCIE Czy **wjeżdżając** do strefy zamieszkania, włączamy się do ruchu?

NIE

ZDJĘCIE Znak - (*koniec obszaru zabudowanego*).

Czy opuszczasz obszar zabudowany?

TAK

ZDJĘCIE Znak D-11 bus pas, pod znakiem tabliczka – obowiązuje od pon. - piątku.

Czy można jechać tym pasem w niedzielę?

TAK

ZDJĘCIE Znak D-4a (*droga bez przejazdu*).

Czy wjeżdżając na drogę oznaczoną tym znakiem można zawrócić?

TAK

ZDJĘCIE Znak D-1 (*droga z pierwszeństwem*). Czy pierwszeństwo obowiązuje jedynie na najbliższym skrzyżowaniu?

NIE

ZDJĘCIE Znak D-15 (*przystanek autobusowy*)

Czy w tej sytuacji dopuszczalne jest zatrzymanie pojazdu 11 metrów za znakiem?

NIE

ZDJĘCIE Czy znaki poziome w kształcie trójkątów informują o konieczności bezwarunkowego zatrzymania się?

NIE

ZDJĘCIE Znak z nazwą rzeki, przed mostem. Czy bezpośrednio za tym znakiem możesz zawrócić?

NIE

ZDJĘCIE Czy możesz zawrócić na moście?

NIE

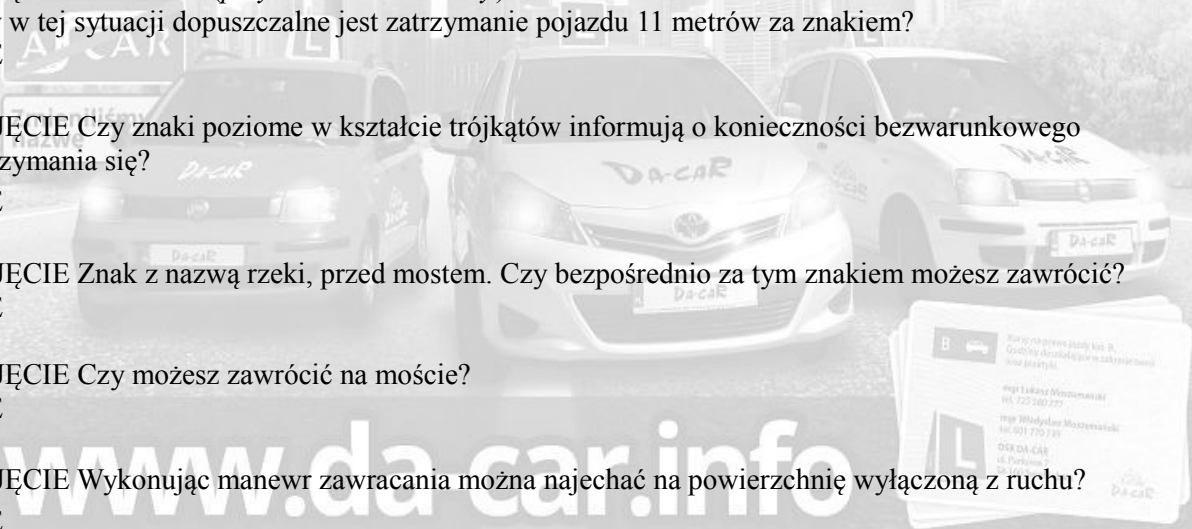
ZDJĘCIE Wykonując manewr zawracania można najechać na powierzchnię wyłączoną z ruchu?

NIE

Stacja Sekolena Kierowców
Dziękujemy za Twoją uwagę
58-160 Świebodzice
Nie szukaj najbliższej szkoły,
wybierz najlepszą!

Kursy na Prawo Jazdy kat. B.
Kursy w zakresie teorii oraz praktyki

tel. 727 580 777
tel. 601 770 139



ZDJĘCIE Znak D-11 *bus pas*, pod znakiem tabliczka, że obowiązuje tylko od poniedziałku do piątku w godzinach 7-10 9 14-16

Czy możesz jechać tym pasem w niedzielę?

TAK

KLIP Kierujący zbliża się do progu zwalniającego, obok znak ograniczenie prędkości do 20 km/h

Czy w tej sytuacji ograniczenie prędkości obowiązuje tylko na odcinku drogi do progu zwalniającego?

NIE

ZDJĘCIE Znak droga ekspresowa i pod nim tabliczka (T-1a) z wartością 1000.

Czy znaki te informują, że za 1000 m zacznie się droga ekspresowa?

TAK

ZDJĘCIE Znak dwa niebezpieczne zakręty, pierwszy w prawo, poniżej napis – droga kręta oraz tabliczka ostrzegająca o niebezpieczeństwie na odcinku 1,4 km

Czy będę informowany o każdym zakręcie na tym odcinku drogi?

NIE

ZDJĘCIE Czy punktowe elementy odblaskowe są znakami drogowymi poziomymi?

TAK

ZDJĘCIE Droga z punktowymi elementami odblaskowymi umieszczonymi na jezdni ("kocie oczy" barwy białej)

Czy te elementy odblaskowe ostrzegają o ryzyku wypadnięcia z jezdni?

TAK

ZDJĘCIE Na drodze punktowe elementy odblaskowe barwy czerwonej.

Czy czerwone elementy odblaskowe wyznaczają prawą krawędź jezdni?

TAK

ZDJĘCIE Znak zakaz zawracania. Czy widoczny znak obowiązuje od miejsce ustawienia do najbliższego skrzyżowania włącznie?

TAK

ZDJĘCIE Znak E-17 (*miejsowość, zielona tablica z nazwą miejscowości*).

Czy wjeżdżamy na obszar zabudowany?

NIE

ZDJĘCIE Na obrazku znak zakaz poruszania 3t. Pytanie. Czy możesz wjechać w tę ulicę samochodem osobowym o rzeczywistej masie całkowitej 2.5t z przyczepą?

TAK

ZDJĘCIE Znak A6b (*skrzyżowanie z drogą podporządkowaną po prawej stronie*), pod nim tabliczka z napisem 90 m oraz znak ograniczenie prędkości do 70 km/h

Czy kierujący powinien spodziewać się skrzyżowania po przejechaniu 150 – 300 m ?

NIE

ZDJĘCIE Sygnalizacja S-2 ze strzałką kierunkową w lewo

Czy w tej sytuacji możesz zawrócić?

TAK

ZDJĘCIE Sygnalizator, światło czerwone i żółte.

Czy chwilę zapali się sygnał zielony?

TAK

www.da-car.info



ZDJĘCIE Sygnalizator, światło czerwone i żółte.
Czy nadawany sygnał zabrania wjazdu na sygnalizator?
TAK

ZDJĘCIE Sygnalizator – światło czerwone i żółte.
Czy w tej sytuacji możesz wjechać za sygnalizator?
NIE

Część 5
MANEWRY NA DRODZE

ZDJĘCIE Pojazd zaparkowany ok 2 m przed przejściem dla pieszych.
Czy pojazd jest zaparkowany prawidłowo?
NIE

ZDJĘCIE Czy możesz zaparkować 20m od znaku "przystanek autobusowy".
TAK

ZDJĘCIE Czy możemy zaparkować 5 m przed przejściem dla pieszych?
Nie

ZDJĘCIE Pojazd zaparkowany w wyznaczonym miejscu parkingowym.
Czy pojazd jest zaparkowany prawidłowo?
TAK

ZDJĘCIE Strefa zamieszkania.

Czy można zaparkować przy chodniku, jeśli zrobimy to w taki sposób aby nie utrudniać ruchu pieszym?
NIE

ZDJĘCIE Czy mogę pozostawić auto na chodniku, gdy zostawię 2 m szerokości pieszym i **utrudnię** im przejście?
NIE

ZDJĘCIE Czy za tym znakiem (strefa zamieszkania) jest zakaz cofania?
NIE

KLIP Samochód wjeżdża w strefę zamieszkania. Czy na drodze za tym znakiem dozwolone jest cofanie?
TAK

ZDJĘCIE Czy wolno zostawiać na parkingu pojazd z otwartymi drzwiami?
NIE

ZDJĘCIE Most.
Czy można zaparkować tuż za mostem?
TAK

ZDJĘCIE Wjazd to tunelu, samochody wjeżdżają do niego.
Czy w tym miejscu można się zatrzymać?
NIE

Czy można parkować przed tym znakiem za przystankiem autobusowym? Za przystankiem widoczny znak

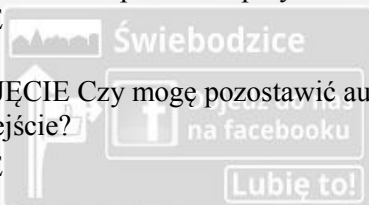
DA-CAR

Dziękuję Szukania Kierowców
Łukasz Morszumiński

ul. Parkowa 7
16-100 Świebodzice

Nie szukaj najbliższej szkoły,
wybierz najlepszą!

Kursy na prawo jazdy kat. B.
(Godziny doszkalające w zakresie teorii oraz praktyki)



tel. 727 580 777

tel. 601 770 139

DA-CAR

Zmieniłem nazwę

DA-CAR

DA-CAR

DA-CAR

DA-CAR

DA-CAR

DA-CAR

DA-CAR

www.da-car.info



B-36 Zakaz zatrzymywania się.

NIE

ZDJĘCIE Czy możesz cofać pojazdem na wiadukcie?

NIE

ZDJĘCIE Czy na drodze jednokierunkowej obowiązuje zakaz cofania?

NIE

KLIP Skrzyżowanie w kształcie litery T, znak STOP, brak oznakowania poziomego (lini ciągłej, bezwarunkowego zatrzymania).

Czy trzeba zatrzymać się bezpośrednio przed znakiem?

NIE

KLIP. Kierujący dojeżdża do skrzyżowania i zatrzymuje się za samochodem, który zatrzymał się przed linią bezwarunkowego zatrzymania (STOP). Pojazd po chwili odjeżdża.

Czy można wjechać na skrzyżowanie bez ponownego zatrzymania się?

NIE

ZDJĘCIE Droga jednokierunkowa (oznaczona znakiem D-3).

Czy w tej sytuacji kierujący może zatrzymać pojazd przy lewej krawędzi jezdni?

TAK

KLIP Droga jednokierunkowa z dwoma pasami ruchu. Kierujący porusza się prawym pasem. Widzimy znak D-37 tunel (widzimy wjazd do tunelu za ok 100 metrów).

Czy w tej sytuacji można zatrzymać się w celu wysadzenia pasażera?

NIE

KLIP Skrzyżowanie, światło zielone, z prawej strony dostrzegamy pojazd uprzywilejowany (karetka).

Czy w tej sytuacji, w razie konieczności powinieneś się zatrzymać?

TAK

ZDJĘCIE Czy pojazd policji poruszający się drogą nie nadający sygnałów świetlnych oraz dźwiękowych jest pojazdem uprzywilejowanym?

NIE

KLIP Wjazd do tunelu.

Czy podczas zatrzymania w tunelu musisz zachować odstęp 5 m od poprzedzającego pojazdu?

TAK

KLIP. Skrzyżowanie, a tuż za nim przystanek autobusowy.

Czy w tej sytuacji można zatrzymać pojazd na skrzyżowaniu?

NIE

KLIP Droga jednojezdniowa, dwukierunkowa. Linia ciągła oddzielająca pobocze od jezdni.

Czy w tej sytuacji dopuszczalne jest zatrzymanie pojazdu na poboczu?

NIE

KLIP Czy, gdy jesteś zmęczony i chcesz odpocząć to możesz w tej sytuacji skręcić w lewo i tam zaparkować? Linia ciągła oddzielająca pasy ruchu, w dodatku zakaz wjazdu B-2 na parking znajdujący się po lewej stronie.

NIE

KLIP Sygnalizator warunkowy S-2 ze strzałką do skrzyżowania w prawo. Kierujący chce jechać w prawo.

Czy musisz się w tym miejscu zatrzymać?

TAK

KLIP Sygnalizator ogólny, światło zielone, kierujący chce jechać w prawo.

Czy musisz się w tym miejscu zatrzymać?

NIE

KLIP Kierujący jedzie w obszarze niezabudowanym, mija znak D-1, po prawej stronie linia krawędziowa ciągła (także za znakiem)

Czy bezpośrednio za znakiem można zatrzymać pojazd na poboczu?

NIE

ZDJĘCIE Skrzyżowanie oznaczone znakiem B-22 zakaz skrętu w prawo.

Czy kierujący pojazdem może zatrzymać pojazd bezpośrednio za skrzyżowaniem?

NIE

KLIP Jedziesz prawym pasem, obok tramwaj, pojawia się przejście dla pieszych, czy możesz wyprzedzić tramwaj?

NIE

ZDJĘCIE Jedziemy za kombajnem, podwójna linia ciągła. Czy w tej sytuacji możemy wyprzedzić pojazd?

NIE

KLIP Droga dwujezdniowa, trzy pasy w jednym kierunku. Na środkowym pasie, przed kierującym porusza się ciężarówka. Po prawej stronie linia przerywana, po lewej ciągła.

Czy w tej sytuacji możemy wyprzedzić ten przed nami z lewej strony?

NIE

KLIP Kierujący zbliża się do wnieśienia, przed nami porusza się rowerzysta (stosunkowo wolno). Na drodze brak wyznaczonych pasów ruchu.

Czy, w tej sytuacji, wolno nam wyprzedzić rowerzystę?

TAK

ZDJĘCIE Droga dwukierunkowa, brak znaków.

Czy w tej sytuacji można wyprzedzić rowerzystę?

TAK

KLIP. Kierujący chce wyprzedzić samochód poruszający się przed nim, ale z naprzeciwka nadjeżdża inny samochód.

Czy w tej sytuacji możemy wykonać manewr wyprzedzania?

NIE

ZDJĘCIE Mgła, droga poza obszarem zabudowanym, kierujący wyprzedza rowerzystę.

Czy w tej sytuacji należy dawać krótkotrwałe sygnały dźwiękowe?

TAK

ZDJĘCIE Jak należy zachować się w tej sytuacji poza obszarem zabudowanym (na zdjęciu duża mgła, mocno ograniczające widoczność)

Odp. Nie wyprzedzać innych pojazdów, jeśli nie masz pewności, że to bezpieczne

ZDJĘCIE Przed kierującym porusza się samochód jadący "ślalomem".

Czy w tej sytuacji powinieneś powstrzymać się od wyprzedzania?

TAK

KLIP Kierujący zbliża się do wnieśienia, przed nami porusza się motocykl (stosunkowo wolno). Na drodze, brak wyznaczonych pasów ruchu.

Czy, w tej sytuacji, wolno nam wyprzedzić ten pojazd?

NIE

KLIP Droga dwukierunkowa, brak znaków poziomych. Kierujący zbliża się do wierzchołka wzniesienia. Czy w tej sytuacji kierujący może wyprzedzić inny samochód.

NIE

KLIP Kierujący wyprzedza rowerzystę na drodze dwukierunkowej bez wyznaczonych pasów ruchu. Czy w tej sytuacji powinien zachować odstęp 1 m od rowerzysty?

TAK

ZDJĘCIE Czy należy zwiększyć odstęp od wyprzedzanego pijanego rowerzysty?

TAK

ZDJĘCIE Jaki odstęp należy zachować podczas wyprzedzania wózka rowerowego?

Odp. Nie mniejszy niż 1 m

ZDJĘCIE Jaki odstęp należy zachować wyprzedzając samochód osobowy (1m, 2m, bezpieczny)?

Odp. Bezpieczny

ZDJĘCIE Jaki odstęp należy zachować podczas omijania przeszkody (1m, 2m, bezpieczny)?

Odp. Bezpieczny – dostosowany do prędkości i warunków na drodze

KLIP Kierujący zbliża się do przejazdu kolejowego, przed nim dwóch rowerzystów.

Czy w tej sytuacji, zachowując odstęp 1m można wyprzedzić rowerzystów?

NIE

KLIP Przejeżdżamy obok wysuniętego filaru mostu (elementu konstrukcji).

Czy w tej sytuacji powinniśmy zachować odstęp min. 1m?

NIE

KLIP Przejeżdżamy obok wysuniętego filaru mostu (elementu konstrukcji).

Czy w tej sytuacji powinniśmy zachować bezpieczny odstęp od omijanego elementu?

TAK

KLIP Po jezdni porusza się pijany rowerzysta.

Czy należy zwiększyć odstęp od wyprzedzanego rowerzysty?

TAK

ZDJĘCIE Czy w tej sytuacji wykonałeś manewr wyprzedzania? (jedziesz swoim pasem, i samochód z naprzeciwka jedzie w Twoją stronę swoim pasem)

NIE (było to wymijanie)

ZDJĘCIE Czy w tej sytuacji możesz rozpocząć manewr wyprzedzania? (przed nami ciągnik, łuk drogi i linia podwójna ciągła)

NIE

ZDJĘCIE Droga jednojezdniowa, znak A-1.

Czy w tej sytuacji dopuszcza się wyprzedzanie z prawej strony?

NIE

KLIP Czy rowerzysta może pozwolić wyprzedzać samochody z prawej strony?

TAK

KLIP Austrada, dwujezdniowa, po dwa wyznaczone pasy ruchu w każdym kierunku.

Czy w tej sytuacji można wyprzedzać z prawej strony?

TAK

KLIP W oddali widoczne skrzyżowanie, po prawej stronie porusza się rowerzysta.

Czy w tej sytuacji można wyprzedzić rowerzystę?

www.da-car.info



TAK

KLIP. Wolno poruszający się samochód, chce skręcić na wyznaczone miejsce parkingowe po lewej stronie (ma włączony kierunkowskaz).

Czy możemy wyprzedzić ten pojazd z lewej strony?

NIE

ZDJĘCIE Czy za tym znakiem (teren zabudowany) można wyprzedzać pojazd uprzywilejowany?

NIE

ZDJĘCIE Czy w tej sytuacji (droga poza obszarem zabudowanym) można wyprzedzić pojazd uprzywilejowany?

TAK

KLIP Zbliżamy się do ronda z 3 pasami ruchu, a przed rondem znak – ruch okrężny i ustąp pierwszeństwa. Czy na tym skrzyżowaniu dopuszczalne jest wyprzedzanie innych pojazdów?

TAK

KLIP Przed Tobą jedzie pojazd, który włącza kierunkowskaz – prawdopodobnie sygnalizując chęć wyprzedzania. Czy możemy wyprzedzić ten pojazd?

NIE

KLIP Kierujący wyjeżdża z obszaru zabudowanego, na końcu filmu widać jak zaczyna wyprzedzać go inny pojazd.

Czy w tej sytuacji można zwiększyć prędkość?

NIE

KLIP Kierujący wyjeżdża z obszaru zabudowanego, na końcu filmu widać jak zaczyna wyprzedzać go inny pojazd.

Czy w tej sytuacji mamy obowiązek zwolnić?

NIE

KLIP Jedziemy równo z tramwajem jednakże trochę za nim, zaczynamy go wyprzedzać po jego lewej stronie, zbliżamy się do pasów - pytanie czy można go wyprzedzić?

NIE

KLIP Jezdnia o trzech wyznaczonych znakami pasach ruchu. Kierujący porusza się pasem prawym, z lewej strony zostaje wyprzedzony przez inny pojazd. Pytanie: Czy w tej sytuacji kierowca może przyspieszyć?

NIE

ZDJĘCIE Wykonane z perspektywy kierowcy, który porusza się prawym pasem. Lewym pasem, przed nim jedzie inny pojazd, po prawej dostrzegamy znak A-1.

Czy w tej sytuacji można wyprzedzić pojazd z prawej strony?

NIE

KLIP. Droga dwujezdniowa poza obszarem zabudowanym, po dwa wyznaczone pasy ruchu w każdym kierunku.

Czy w tej sytuacji można wyprzedzać inny pojazd z jego prawej strony?

TAK

ZDJĘCIE Kierujący jest wyprzedzany przez inny pojazd.

Czy w tej sytuacji kierowca ma obowiązek zmniejszyć prędkość?

NIE

ZDJĘCIE Kierujący jest wyprzedzany przez inny pojazd.

Czy w tej sytuacji kierowca może przyspieszyć?

www.da-car.info



NIE

KLIP Kierujący wyprzedza pojazd na przejeździe kolejowym.
Czy w tej sytuacji powoduje on zagrożenie dla bezpieczeństwa?
TAK

KLIP. Droga, trzy pasy ruchu. Kierujący porusza się środkowym pasem, na lewym inny pojazd, na prawym prowadzone roboty drogowe.
Czy omijając roboty drogowe powinieneś zachować bezpieczną odległość?
TAK

KLIP Przejazd kolejowy, znak STOP. Samochód poprzedzający zatrzymał się.
Czy w tej sytuacji można ominąć ten samochód?
NIE

KLIP Zbliżamy się do przejazdu kolejowego ze znakiem STOP. Przed nami samochód się zatrzymuje i rusza. Czy w tej sytuacji Ty również musisz się zatrzymać po raz drugi?
TAK

Czy w tej sytuacji możesz wjechać na przejazd kolejowy bez zatrzymania, po upewnieniu się, że nie nadjeżdża pojazd szynowy? (stoi znak stop)
NIE

ZDJĘCIE Czy w tej sytuacji możesz wjechać na przejazd kolejowy bez zatrzymania, po upewnieniu się, że nie nadjeżdża pojazd szynowy? (brak znaku stop)
TAK

ZDJĘCIE Czy w tej sytuacji nastąpiło wymijanie pojazdu (na filmie mamy pojazd który poruszał się w kierunku przeciwnym do naszego) TAK

KLIP Kierujący podczas wymijania się z samochodem zjeżdża lekko na prawo, żeby zrobić mu miejsce.
Czy kierujący zachował się prawidłowo?
TAK

KLIP Kierujący porusza się wąską drogą dwukierunkową, po prawej stronie stoją zaparkowane samochody, z naprzeciwka widzimy nadjeżdżający samochód. Kierująca decyduje się ominąć zaparkowane pojazdy, gdy pojazd z naprzeciwka zbliża się do niego, zwalnia oraz dojeżdża do zaparkowanych samochodów, wciąż jednak jego pojazd "wystaje" poza oś jezdni.
Czy reakcja kierującego była prawidłowa?
NIE

ZDJĘCIE Podczas wymijania w nocy należy.
Odp. Patrzeć w punkt poza światłami nadjeżdżających pojazdów

KLIP Roboty drogowe. Lewy pas zamknięty, na prawym ruch wahadłowy kierowany sygnalizatorem., pali się światło zielone?
Czy możemy wjechać na zwężony odcinek drogi bez zatrzymania się?
TAK

KLIP Pojazd omija przeszkodę.
Czy należy zachować odstęp min. 1 m od przeszkody?
NIE

KLIP. Roboty drogowe prowadzone na jezdni.
Czy w tej sytuacji można wykorzystać pas do jazdy pojazdów z naprzeciwka do ominięcia robót prowadzonych na moim pasie?
TAK

KLIP Roboty drogowe, zwężenie, sygnalizator. Nadawany jest sygnał zielony.
Czy w tej sytuacji możemy przejechać obok sygnalizatora bez zatrzymania?
TAK

KLIP Kierujący porusza się skrajnym lewym pasem, zbliża się do skrzyżowania – sygnał zielony, widoczny znak – zakaz skrętu w lewo.
Czy kierujący w tej sytuacji może skręcić w lewo?
NIE

KLIP. Droga jednokierunkowa (oznaczona znakiem D-3) o dwóch pasach ruchu.
Czy można zawrócić na tej drodze?
NIE

KLIP Widzimy boczną uliczkę – zakaz ruchu. Czy można wykorzystać daną uliczkę w celu zawrócenia?
NIE

KLIP Kierowca porusza się prawym pasem ruchu, po chwili pojawia się kolejny pas po prawej stronie. Czy kierujący chcąc zmienić pas (chcąc jechać przy krawędzi jezdni) ma obowiązek zasygnalizować ten manewr kierunkowskazem?
TAK

ZDJĘCIE Pas włączający do drogi ekspresowej czy można rozpędzając się tym pasem już włączyć kierunkowskaz - TAK

KLIP Droga jednokierunkową o 3 pasach ruchu, kierujący porusza się lewym pasem. Znak nakaz skrętu w prawo (C-2)
Czy w tej sytuacji dopuszczalny jest skręt w prawo z lewego pasa?
TAK

ZDJĘCIE Droga, trzy pasy ruchu, brak widocznych innych uczestników ruchu.
Czy kierujący powinien poruszać się po prawym pasie?
TAK

KLIP Kierujący dojeżdża do skrzyżowania w kształcie litery "T". Porusza się prawym pasem, droga jednokierunkową, mijają znak ustąp pierwszeństwa.
Czy w tej sytuacji kierujący może skręcić w lewo lub w prawo?
NIE

ZDJĘCIE 4 pasy ruchu. Na pasie nr 3, którym porusza się kierujący, zmiana organizacji ruchu – białe strzałki nakazują skręt w lewo, a żółte skręt w prawo.
Czy pojazd poruszający się tym pasem może skręcić w lewo?
NIE

ZDJĘCIE Znak nakaz jazdy na wprost oraz podwójna linia ciągła rozdzielająca dwa pasy ruchu.
Czy w tej sytuacji możesz zmienić pas ruchu?
NIE

KLIP Pas zjazdowy z autostrady, równoległe do pasa którym porusza się kierujący znajduje się pas ruchu do skrętu w prawo, ale pasy rozdzielone są ciągłą linią.
Czy w tej sytuacji mogą skręcić w prawo?
NIE

KLIP Droga jednokierunkowa, kierujący znajduje się na lewym pasie ruchu. Przy drodze znak B-21 zakaz skrętu w lewo.
Czy w tej sytuacji można skręcić w lewo?
NIE

KLIP Droga, trzy pasy ruchu. Po lewej stronie znak zakaz zawracania, a pod nim znak informujący o możliwych kierunkach jazdy z poszczególnych pasów. Lewy i środkowy do jazdy prosto, prawy do skrętu w prawo.

Czy w tej sytuacji można skręcić w lewo?

NIE

KLIP Droga dwujezdniowa, trzy pasy w jednym kierunku. Zbliżamy się do skrzyżowania z sygnalizacją (zielone światło). Poruszamy się środkowym pasem, który przeznaczony jest do skrętu w lewo (znaki poziome).

Czy w tej sytuacji/ z tego pasa można zawrócić?

NIE

ZDJEĆCIE Skrzyżowanie, brak sygnalizacji świetlnej, znak poziomy na jezdni P-8b (strzałka do skrętu w lewo).

Czy z tego pasa można zawrócić?

TAK

ZDJEĆCIE Skrzyżowanie w kształcie litery T, droga z lewej podporządkowana. Czy w tej sytuacji można zawrócić?

TAK

KLIP. Droga, trzy pasy ruchu – prawo do jazdy na wprost, środkowy oraz lewy do skrętu w lewo (Gdańsk). Kierujący porusza się środkowym pasem.

Czy chcąc jechać w kierunku Gdańska musimy zmienić pas na lewy?

NIE

ZDJEĆCIE Kierujący porusza się samochodem osobowym na autostradzie, nad jego pasem ruchu znak F-20

Czy w tej sytuacji możesz poruszać się tak oznakowanym pasem ruchu?

TAK

ZDJEĆCIE Kierujący porusza się w tunelu, trzy wyznaczone pasy ruchu. Kierujący znajduje się na pasie środkowym. Brak widocznych innych uczestników ruchu.

Czy w tej sytuacji możemy jechać dowolnym pasem?

NIE

KLIP Kierujący jadąc środkowym pasem, napotyka roboty drogowe, oznakowane strzałkami nakazującymi zmienić pas na sąsiedni.

Czy w takiej sytuacji musisz ocenić sytuację na pasie, na który chcesz wjechać?

TAK

KLIP. Trzy pasy ruchu, lewy i środkowy do jazdy na wprost, prawy do skrętu w prawo. Kierujący porusza się środkowym pasem.

Czy w tej sytuacji, chcąc jechać prosto należy zmienić pas?

NIE

KLIP Jezdnia z trzema pasami ruchu przed skrzyżowaniem. Dwa do skrętu w lewo, skrajny pas prawy do jazdy na wprost i w prawo. Znak A-7

Czy w tej sytuacji jesteś ostrzeżony o wlocie drogi podporządkowanej z prawej strony?

NIE

KLIP. Po lewej parking przy stacji benzynowej, na jezdni linia ciągła.

Czy w tej sytuacji można wjechać na parking?

NIE

ZDJEĆCIE Skrzyżowanie, zabroniona jazda na wprost (znak B-2), znak nakazu jazdy w lewo lub w prawo. Na drodze z lewej strony znak informacyjny (4B) – droga bez przejazdu.

Czy w tej sytuacji na skrzyżowaniu możesz skręcić w prawo?

TAK

KLIP Skrzyżowanie, sygnalizator – czerwone światło, zielona strzałka warunkowa (do skrętu w prawo).

Czy w tej sytuacji możemy jechać w lewo?

NIE

ZDJĘCIE Skrzyżowanie, znak stop, brak widocznych innych znaków.

Czy kierujący ma pierwszeństwo przed pojazdem jadącym z naprzeciwka i skręcającym w lewo?

TAK

ul. Parkowa 7

58-160 Świebodzice

Część 5

PIERWSZEŃSTWA

ZDJĘCIE Czy połączenie drogi twardej z gruntową jest skrzyżowaniem?

NIE

ZDJĘCIE Równoległe z kierującym, po jego lewej stronie stoją tramwaje. Dla kierującego nadawany jest sygnał zielony do skrętu w lewo (sygnalizator S-3).

Czy w tej sytuacji nasz tor jazdy może być kolizyjny z tramwajem?

NIE

KLIP Teren zabudowany, autobus wyjeżdża z zatoki dla autobusów.

Czy w tej sytuacji należy ustąpić pierwszeństwa autobusowi?

TAK

KLIP Znak A-21 (uwaga tramwaj), tramwaj wyjeżdża z pętli na jezdnię

Czy w tej sytuacji należy ustąpić pierwszeństwa tramwajowi?

NIE

KLIP Znak A-21 (uwaga tramwaj), tramwaj wyjeżdża z zajezdni na drogę

Czy w tej sytuacji należy ustąpić pierwszeństwa tramwajowi?

NIE

KLIP Kierujący skręca w prawo na skrzyżowaniu. Jego tor jazdy przecina się z torami tramwajowymi. Po lewej stronie na prostopadłym wlocie skrzyżowania, przed sygnalizacją świetlną stoi tramwaj.

Czy masz obowiązek ustąpić pierwszeństwa tramwajowi?

NIE

KLIP Kierujący porusza się równoległe do tramwaju jadącego po jego lewej stronie.

Czy mamy obowiązek ustąpienia pierwszeństwa tramwajowi zdejeżdżającymi do zajezdni.

TAK

KLIP Skrzyżowanie dwóch dróg dwujezdnowych, po 2 pasy ruchu w każdym kierunku. Po środku toru tramwajowe. Nadawany sygnał zielony ogólny. Samochody ruszają, kierujący skręca w lewo.

Czy w tej sytuacji kierujący powinien ustąpić pierwszeństwa tramwajowi?

NIE

KLIP Kierujący zbliża się do skrzyżowania, czerwone światło na sygnalizatorze. Równoległe zatrzymuje się tramwaj, nikt z niego nie wychodzi. Brak znaku przystanek tramwajowy (D-17)

Czy musisz w tej sytuacji zatrzymać się przed ostatnim wagonem?

NIE

KLIP Skrzyżowanie z sygnalizacją, nadawany sygnał czerwony, na jezdni jest widoczna linia warunkowego zatrzymania p-14. Do skrzyżowania dojeżdża samochód zatrzymuje się przed tą linią.

www.da-car.info



Czy kierujący zachował się właściwie?

TAK

KLIP Kierujący zbliża się do skrzyżowania z sygnalizacją świetlną – światło zielone, sygnalizator ogólny. Zamierza skręcić w lewo, z naprzeciwka zbliża się pojazd.

Czy w tej sytuacji kierujący ma pierwszeństwo przed zbliżającym się pojazdem?

NIE

KLIP Skrzyżowanie z sygnalizacją kierunkową

Czy na swoim torze jazdy napotkasz punkt kolizyjny z tramwajem?

NIE

ZDJĘCIE Sygnalizator kierunkowy w lewo. Nagle zapala się zielone światło.

Czy na tym skrzyżowaniu musisz się zastanawiać nad tym kto ma pierwszeństwo?

NIE

KLIP Skrzyżowanie, nadawany sygnał zielony. Kierowca skręca w prawo i widzi przejazd dla rowerzystów, rowerzyści szykują się do ruszenia.

Czy w tej sytuacji masz obowiązek ustąpić im pierwszeństwa?

TAK

KLIP Skrzyżowanie równorzędne. Z prawej zbliża się samochód.

Czy powinienem ustąpić mu pierwszeństwa?

TAK

KLIP: Skrzyżowanie, znak ustęp pierwszeństwa. Kierujący zamierza jechać prosto, z naprzeciwka zbliża się motocyklista który zamierza skręcić w lewo.

Czy mamy obowiązek ustąpienia pierwszeństwa motocykliście?

NIE

KLIP Czy skręcając w lewo należy ustąpić pierwszeństwa rowerzyście jadącemu prosto? Brak widocznych znaków o pierwszeństwie.

TAK

ZDJĘCIE Znak zwężenia jezdni (A-12a) oraz znak zakazu pierwszeństwa dla nadjeżdżających z przeciwka (B-31)

Czy możesz jechać, jeśli nie zmusi to kierującego – jadącego z naprzeciwka do zatrzymania się?

TAK

KLIP Kierujący porusza się drogą z pierwszeństwem, nagle z drogi podporządkowanej wyjeżdża samochód.

Czy w tej sytuacji musisz zrobić wszystko aby się zatrzymać?

TAK

KLIP Kierujący porusza się drogą z pierwszeństwem, nagle z drogi podporządkowanej wyjeżdża samochód.

Czy w tej sytuacji powinieneś powstrzymać się od dalszej jazdy?

TAK

ZDJĘCIE Skrzyżowanie w kształcie litery T, dojeżdżający ma znak B-20 (STOP)

Czy w przedstawionej sytuacji zbliżasz się do drogi z pierwszeństwem?

TAK

KLIP Skrzyżowanie czterowlotowe, oznaczone znakiem D-1 wraz z tabliczką T-6a, wskazującej na pierwszeństwo również dla nadjeżdżających z prawej strony. Kierujący zamierza jechać prosto.

Czy w tej sytuacji masz obowiązek ustąpić pierwszeństwo pojazdowi wjeżdżającym na skrzyżowanie z prawej strony?

TAK

ZDJĘCIE Jadąc prosto widzimy skrzyżowanie z drogą podporządkowaną (znak A-6a).

Czy kierujący ma pierwszeństwo przejazdu?

TAK

KLIP Kierujący zbliża się do skrzyżowania, napotyka znak D-47

Czy w tej sytuacji jadąc prosto masz pierwszeństwo?

NIE

KLIP Kierujący chce wyjechać ze stacji benzynowej pasem rozbiegowym. W lusterku widać, iż pasem równoległym zbliża się inny samochód.

Czy w tej sytuacji masz pierwszeństwo przed tym pojazdem?

NIE

KLIP Skrzyżowanie, znak D-2 koniec drogi z pierwszeństwem, oraz znak A-7 ustęp pierwszeństwa.

Kierujący chce jechać prosto, z naprzeciwka jedzie pojazd sygnalizujący zamiar skrętu w lewo.

Czy w tej sytuacji masz obowiązek ustąpienia pierwszeństwa nadjeżdżającemu pojazdowi?

NIE

KLIP Kierujący wyjeżdża ze strefy ruchu (znak D-53), z prawej nadjeżdża samochód.

Czy w tym momencie musimy się zatrzymać i ustąpić pierwszeństwa?

TAK

KLIP Kierujący wyjeżdża ze strefy zamieszkania, zamierza jechać prosto. Z naprzeciwka, drogą podporządkowaną nadjeżdża pojazd, który sygnaliuje zamiar skrętu w lewo.

Czy w tej sytuacji mamy pierwszeństwo przed pojazdem nadjeżdżającym drogą podporządkowaną?

NIE

KLIP Skrzyżowanie, dojeżdżamy do linii warunkowego zatrzymania, chcemy jechać prosto. Z naprzeciwka zbliża się samochód sygnalizujący zamiar skrętu w lewo.

Czy w tej sytuacji musimy się zatrzymać?

NIE

KLIP Pojazd zbliża się do ronda, znak C-12, brak znaku A-7 (ustęp pierwszeństwa). Po wjechaniu na rondo dostrzegamy z prawej pojazd zbliżający się do skrzyżowania kolejnym wlotem.

Czy musisz przepuścić pojazd zbliżający się do ronda?

TAK

KLIP Kierujący zbliża się do ronda, znak skrzyżowanie o ruchu okrężnym oraz ustęp pierwszeństwa. Po rondzie porusza się samochód.

Czy w tej sytuacji mamy pierwszeństwo przed pojazdem znajdującym się na rondzie?

NIE

KLIP Kierujący zbliża się do ronda, znak skrzyżowanie o ruchu okrężnym. Po rondzie porusza się samochód.

Czy w tej sytuacji mamy pierwszeństwo przed pojazdem znajdującym się na rondzie?

TAK

KLIP. Kierujący zbliża się do przejazdu kolejowego z zaporami, za przejazdem znajdują się inne pojazdy – nie ma miejsca do kontynuowania jazdy.

Czy w tej sytuacji powinieneś zatrzymać się przed półzaporami?

TAK

KLIP Po przejechaniu pociągu, zapory całkowicie podnoszą się, lecz wciąż pali się sygnał dźwiękowy.

Czy w tej sytuacji dopuszcza się wjazd na przejazd kolejowy?

NIE

KLIP. Przejazd kolejowy, zgasił czerwony sygnalizator, lecz zapory nie zdążyły się podnieść do samego

końca.

Czy w tej sytuacji wolno nam przejechać przejazd?

NIE

ZDJĘCIE Czy mrugające światło żółte na sygnalizacji zmienia zasady pierwszeństwa i nakazuje zachowania szczególnej ostrożności?

TAK

ZDJĘCIE Czy migające żółte światło na sygnalizacji świetlnej uchyla pierwszeństwo ustalone przez znaki drogowe?

NIE

KLIP Policjant stoi bokiem z wyciągniętą poziomo ręką.

Czy w tej sytuacji można wjechać na skrzyżowanie?

NIE

KLIP Skrzyżowanie, policjant przodem do kierującego z rozłożonymi na boki rękami.

Czy w tej sytuacji można skręcić w prawo?

NIE

ZDJĘCIE Skrzyżowanie, czerwone światło. Policjant kierujący ruchem, stoi bokiem – łokieć zgięty.

Czy policjazd zezwala nam na wjazd na skrzyżowanie?

TAK

KLIP Policjant na skrzyżowaniu, ustawia się do nas bokiem.

Czy możemy ruszyć?

TAK

KLIP Policjant stoi tyłem, na sygnalizatorze nadawany sygnał zielony.

Czy możesz wjechać na skrzyżowanie?

NIE



tel. 727 580 777

Część 6
OSTROŻNOŚĆ

ZDJĘCIE Czy zachowanie szczególnej ostrożności polega na zmniejszeniu prędkości do 30km/h?

NIE

ZDJĘCIE Czy zawsze podczas jazdy należy zachowywać szczególną ostrożność?

NIE

ZDJĘCIE Czy znaki ostrzegawcze obligują Cię do zachowania szczególnej ostrożności?

TAK

KLIP. Kierujący przejeżdża przez przejazd kolejowy.

Czy w tej sytuacji musisz zachować szczególną ostrożność?

TAK

KLIP Idzie kolumna pieszych wśród nich znajdują się dzieci czy trzeba zachować ostrożność?

TAK

ZDJĘCIE Czy podczas cofania należy zachować szczególną ostrożność?

TAK

www.da-car.info



KLIP Przejeżdżasz obok autobusu stojącego w zatoczce – bez włączonego kierunkowskazu. Czy masz obowiązek zachować szczególną ostrożność?

NIE

KLIP. Jezdnię, którą się poruszamy przecinają tory tramwajowe. Czy w tej sytuacji należy zachować szczególną ostrożność?

TAK

KLIP. Kierujący widzi pojazd przeznaczony do przewozu osób niepełnosprawnych, do którego wsiadają kolejne osoby.

Czy w tej sytuacji należy zachować szczególną ostrożność?

TAK

KLIP Przed nami pojazd ze znakiem niepełnosprawności.

Czy jadąc za tym pojazdem musisz zachować szczególną ostrożność?

NIE

KLIP Przed nami pojazd nauki jazdy.

Czy jadąc za tym pojazdem musisz zachować szczególną ostrożność?

TAK

ZDJĘCIE Czy wjeżdżając z pola na drogę bitumiczną należy zachować szczególną ostrożność?

TAK

KLIP Autostrada, znak A-30 inne niebezpieczeństwo. Na górze znak świetlny "autostrada w kierunku Berlina".

Czy w tej sytuacji należy zachować szczególną ostrożność?

TAK

KLIP Zbliżasz się do przystanku tramwajowego z wyspą na środku jezdni.

Czy w tym wypadku musisz zwiększyć uwagę?

TAK

KLIP Kierujący pojazdem zjeżdża do zatoczki i zatrzymuje się w niej.

Czy rozpoczynając jazdę po takim zatrzymaniu masz obowiązek zachować szczególną ostrożność?

TAK

KLIP. Autobus szkolny z włączonym lewym kierunkowskazem stoi w zatoczce autobusowej.

Czy powinniśmy zwolnić i zachować szczególną ostrożność?

TAK

ZDJĘCIE Po prawej stronie stoi autobus, ale nie ma włączonego kierunkowskazu, czy należy zachować szczególną ostrożność?

TAK

KLIP Kierujący zbliża się do przystanku tramwajowego bez wyspy, ulokowanego na środku jezdni. Z naprzeciwka nadjeżdża tramwaj i zatrzymuje się. Brak przejścia dla pieszych, można się domyślać, że piesi będą wysiadać na drugą stronę ulicy.

Czy w tej sytuacji należy zachować szczególną ostrożność?

TAK

Pojazd przed nami skręca w lewo – do posesji.

Czy musimy zachować szczególną ostrożność?

TAK

Ośrodek Szkolenia Kierowców
Moszumański
ul. Parkowa 7
58-160 Świebodzice
Nie szukaj najbliższej szkoły,
wybierz najlepszą!

Kursy na Prawo jazdy kat. B.
godziny doszkalające w zakresie teorii oraz praktyki

Świebodzice
Dojeżdż do nas
na facebooku
tel. 727 580 777
tel. 601 770 139

Zmieniłemy
DA-CAR
www.da-car.info

DA-CAR
ul. Parkowa 7
58-160 Świebodzice

KLIP Znak roboty drogowe, na środku drogi słupki z czerwonymi paskami, brak widocznych maszyn, ani robotników prowadzących pracę.

Czy w tej sytuacji należy zachować szczególny odstęp?

TAK

ZDJĘCIE Czy podczas jazdy nocą powinno się zwiększyć uwagę?

Odp. Tak, bo w nocy mamy gorszą/ograniczoną widoczność

KLIP Obszar zabudowany. Skrzyżowanie czterowlotowe. Kierujący porusza się drogą z pierwszeństwem. Nagle z prawej strony nadjeżdża samochód.

Czy w takiej sytuacji można użyć sygnału dźwiękowego?

TAK

ZDJĘCIE Czy nie wolno Ci użyć sygnału dźwiękowego, jeśli mimo zmiany sygnału na zielony, pojazd stojący przed Tobą nie rusza przez dłuższą chwilę?

TAK

KLIP Kierujący podczas omijania, zmusza jadący z naprzeciwka pojazd do zahamowania.

Czy w tej sytuacji powoduje on zagrożenie dla bezpieczeństwa?

TAK

KLIP Kierujący nagle zjeżdża na pobocze, przednim kołem najechał na pas zieleni. Po chwili mija go karetka na sygnale.

Czy kierujący zachował się prawidłowo?

NIE

Kursy na Prawo Jazdy kat. B. (Godziny doszkalające w zakresie teorii oraz praktyki)

Część 7
ŚWIATŁA

ZDJĘCIE Czy uczestnicząc w wypadku na autostradzie, musisz sygnalizować unieruchomienie kierowanego przez siebie pojazdu, poprzez włączenie świateł awaryjnych?

TAK

ZDJĘCIE Czy zmieniając nieznacznie tor jazdy należy włączyć kierunkowskaz?

NIE

KLIP Droga nieoświetlona, poza obszarem zabudowanym. Czy samochód pozostawiony w tej sytuacji powinien mieć włączone światła postojowe/pozycyjne?

TAK

ZDJĘCIE Czy w tunelu można używać świateł drogowych?

NIE

ZDJĘCIE Czy jadąc po krętej drodze oznaczonej znakami, podczas pogodnej nocy mamy obowiązek zmiany świateł mijania na drogowe?

NIE

ZDJĘCIA Czy światła osoby jadącej z naprzeciwka po zmroku mogą nam pomóc – dodatkowo oświetlając drogę?

NIE

www.da-car.info



ZDJĘCIE Kiedy podczas jazdy od zmierzchu do świtu możesz używać świateł drogowych?

Odp. Na nieoświetlonych drogach, jeśli nie oślepiasz innych kierujących;

KLIP Czy w tej sytuacji dozwolone jest jazda z przednimi światłami przeciwmgielnymi? (Filmik ukazujący drogę w terenie zabudowanym, dobra widoczność i przejrzystość powietrza)

NIE

ZDJĘCIE Czy obowiązek używania świateł mijania w pojeździe dotyczy tylko okresu letniego?

NIE

ZDJĘCIE Jak ustawiamy światła mijania?

Odp. Asymetrycznie, aby nie oślepić kierowcy z przeciwka i widzieć pobocze.

ZDJĘCIE Jaki może być skutek nieprawidłowego ustawienia reflektorów świateł mijania?

Odp. Pogorszenie widoczności drogi w nocy;

ZDJĘCIE Do czego służą światła pozycyjne?

Odp. Sygnalizują innym uczestnikom ruchu położenie naszego pojazdu

ZDJĘCIE Do czego służą światła cofania?

Odp. Oświetlają drogę za samochodem oraz informują o czynności cofania

ZDJĘCIE Czy możesz rozpocząć sygnalizowanie zmiany pasa ruchu w trakcie wykonywania tego manewru?

NIE

ZDJĘCIE Jaka jest częstotliwość migania kierunkowskazu?

Odp. 60-120 x na minutę

KLIP. Kierujący porusza się w nocy samochodem, przed nim jedzie samochód wykonujący roboty drogowe

Czy w tej sytuacji możesz jechać na światłach drogowych?

NIE

KLIP Czy w tej sytuacji należy zmienić światła drogowe na mijania? Filmik, samochód wyprzedza nas w nocy na nieoświetlonej drodze.

TAK

ZDJĘCIE Czy możesz użyć sygnału świetlnego na obszarze zabudowanym aby ostrzec kierowcę stwarzającego bezpośrednie zagrożenie dla bezpieczeństwa ruchu drogowego?

TAK

ZDJĘCIE Czy możemy światłami drogowymi ostrzec innych kierujących o stojącej przy drodze policji?

NIE

ZDJĘCIE Światła stopu, do jazdy dziennej, przeciwmgielne przednie.

Które z powyższych świateł stanowi obowiązkowe wyposażenie pojazdu?

Odp. Światła stopu

ZDJĘCIE Czy w południe, przy dużym zachmurzeniu, ale normalnej przejrzystości powietrza można używać świateł do jazdy dziennej?

TAK

KLIP. Dwa pasy ruchu, oba do jazdy na wprost. Kierujący porusza się lewym pasem.

Czy w tej sytuacji, aby zmienić pas na prawy należy włączyć kierunkowskaz?

TAK

KLIP Kierujący napotyka znak nakaz jazdy w prawo.

Czy w tej sytuacji kierowca powinien włączyć kierunkowskaz?

www.da-car.info



TAK

KLIP Słoneczny dzień, dobra widoczność.

Czy w tej sytuacji możesz włączyć światła drogowe?

NIE

ZDJĘCIE Kiedy podczas jazdy od zmierzchu do świtu możesz używać światła drogowych?

Odp. Na nieoświetlonych drogach, jeśli nie oślepisz innych kierowców.

ZDJĘCIE Czy stojąc przed przejazdem kolejowym (jako pierwszy pojazd), możemy wyłączyć światła?

NIE

ZDJĘCIE Czy stojąc w korku kilka minut można wyłączyć światła pojazdu gdy przed tobą i za tobą są pojazdy

TAK

ZDJĘCIE Czy po wjechaniu na autostradę, jadąc kończącym się pasem rozbiegowym, możemy zrezygnować z użycia kierunkowskazu?

NIE

ZDJĘCIE Czy na autostradzie można cofać na włączonych światłach awaryjnych?

NIE

KLIP Droga, trzy wyznaczone pasy. Kierujący porusza się środkowym pasem. Ustępuje pierwszeństwa pojazdowi jadącemu prawym pasem, a następnie zmienia pas na prawy, sygnalizując to kierunkowskazem.

Czy w tej sytuacji kierujący zachował się prawidłowo?

TAK

ZDJĘCIE Jedziesz samochodem w mgle, ograniczającej widoczność do 40 m, co powinieneś zrobić?

Odp. Włączyć światła przeciwmgielne tylne

ZDJĘCIE Światła przeciwmgielne należy wyłączyć jeżeli widoczność wzrośnie do (30, 40, 60 m):

Odp. 60M

ZDJĘCIE Jedziesz samochodem we mgle, jak należy się zachować (bezwzględnie włączyć światła przeciwmgielne, zwiększyć odległość do poprzedzających pojazdów, zmniejszyć odległość od poprzedzających pojazdów)?

Odp. Zwiększyć odległość do poprzedzających pojazdów

ZDJĘCIE W jakiej sytuacji możesz użyć światła przeciwmgielnych tylnich (gdy mgła ogranicza widoczność do 100 m, gdy deszcz ogranicza widoczność do 50 m, gdy opady śniegu ograniczają widoczność do 200 m)?

Odp. Gdy deszcz ogranicza widoczność do 50 m

ZDJĘCIE Czy światła przeciwmgielnych tylnych można używać w czasie mgły, ale tylko jeśli widoczność jest mniejsza niż 100 m?

NIE (bo musi spaść poniżej 50 m)

KLIP Czy jadąc w dzień przy silnym zamgleniu, drogą poza obszarem zabudowanym i widząc nadjeżdżające z naprzeciwka pojazdy, masz prawo użyć światła do jazdy dziennej?

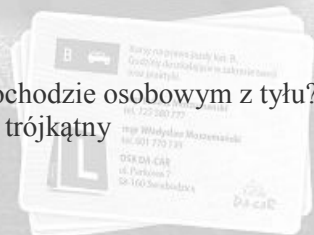
NIE

ZDJĘCIE Jakiego kształtu światła odblaskowe powinny znajdować się w samochodzie osobowym z tyłu?

Odp. w samochodach muszą być tylne lamy odblaskowe o kształcie innym niż trójkątny

www.da-car.info

Część 8
PRĘDKOŚĆ



ZDJĘCIE Pojazd z przyczepą porusza się po drodze ekspresowej.

Jaka jest maksymalna dopuszczalna prędkość?

Odp. 80 km/h

ZDJĘCIE Z jaką prędkością może ciągnąć przyczepę samochód osobowy poza obszarem zabudowanym na drodze jednojezdniowej?

Odp. 70 km/h

ZDJĘCIE Pojazd porusza się po drodze ekspresowej

Jaka jest maksymalna dopuszczalna prędkość?

120 km/h

ZDJĘCIE Czy maksymalnie dopuszczalna prędkość dla samochodu osobowego z przyczepą na drodze ekspresowej wynosi 100 km/h?

NIE

ZDJĘCIE Z jaką max prędkością możesz poruszać się w tej miejscowości? (nazwa miejscowości i pod nią znak ogr. prędkość do 60 km/h)

Odp. 60 km/h cały czas

ZDJĘCIE W którym z powyższych znaków mamy możliwość jazdy pojazdem 60 km/h (strefa zamieszkania, teren zabudowany, teren niezabudowany)?

Odp. Teren niezabudowany

ZDJĘCIE Na której drodze dopuszczalna prędkość w godz. 23-5 to 60km/h?

Odp. Teren zabudowany

ZDJĘCIE Obszar zabudowany, kawałek dalej znak z ograniczeniem prędkości do 80 km/h.

Jaka jest maksymalna dopuszczalna prędkość za tym znakiem?

Odp. 80 km/h

ZDJĘCIE Obszar zabudowany, kawałek dalej znak z ograniczeniem prędkości do 80 km/h.

Jaka jest maksymalna dopuszczalna prędkość za tym znakiem dla pojazdu ciągnącego przyczepę (80 km/h, 50 km/h przez całą dobę, 60 km/h w godzinach od 5.00 – 23.00)?

Odp. 60 km/h w godzinach od 5.00 – 23.00

ZDJĘCIE Obszar zabudowany, kawałek dalej znak z ograniczeniem prędkości do 60 km/h

Jaka jest maksymalna dopuszczalna prędkość za tym znakiem?

Odp. 60 km/h przez całą dobę

ZDJĘCIE Pojazd wjeżdża w strefę zamieszkania.

Jaka jest maksymalna dopuszczalna prędkość?

Odp. 20 km/h

ZDJĘCIE Jaka jest maksymalna dopuszczalna prędkość dla kolejki turystycznej?

Odp. 25 km/h

ZDJĘCIE Jak zmienia się długość drogi hamowania, przy dwukrotnym zwiększeniu prędkości?

Odp. Wzrasta 4x

ZDJĘCIE Całkowita droga zatrzymania samochodu osobowego na suchej jezdni o nawierzchni bitumicznej jadącego z prędkością 50km/h mieści się w przedziale

Odp. 20-30m

ZDJĘCIE Ile metrów na sekundę pokonamy jadąc 90 km/h?

Odp. 25 m

ZDJĘCIE Co w największy sposób wpływa na drogę hamowania?

Odp. Prędkość i rodzaj nawierzchni

ZDJĘCIE Droga zatrzymania samochodu na suchej nawierzchni z prędkości 110km/h mieści się w przedziale:

Odp. 90-135m

ZDJĘCIE Całkowita droga hamowania na suchej nawierzchni bitumicznej przy prędkości 50 km/h mieści się:

Odp. 20-30m

Część 9

DOKUMENTY UPRAWNIENIA

ZDJĘCIE Z jakiego powodu może zostać zatrzymane prawo jazdy?

Odp. Jeśli minął termin ważności tego dokumentu;

ZDJĘCIE Czy właściciel stacji benzynowej ma prawo ustalić w jaki sposób auta będą poruszać się na jej terenie?

TAK

ZDJĘCIE Czy skradziony pojazd można wyrejestrować?

TAK

ZDJĘCIE Czy podczas kontroli nieumundurowany policjant musi się wylegitymować?

TAK

ZDJĘCIE Wykonując na rzecz przedsiębiorcy własnym pojazdem niezarobkowy przewóz towarów jaką umowę powinieneś posiadać:

Odp Umowę o dzieło

ZDJĘCIE Jaki dokument należy posiadać wykonując przewóz na własne potrzeby?

Odp. Wypis z licencji

ZDJĘCIE Czy osoba jadąca wierzchem jest kierującym?

TAK

ZDJĘCIE Co powinien mieć ze sobą kierowca (OC, AC, Kartę pojazdu)?

Odp. Ubezpieczenie OC

ZDJĘCIE Co zrobisz w sytuacji, gdy zgubisz tablicę rejestracyjną?

Odp. Należy zwrócić się o legalny wtórnik tablicy

ZDJĘCIE Międzynarodowe prawo jazdy jest:

Odp. Ważne Tylko z krajowym prawem jazdy

www.dacar.info



ZDJĘCIE Co kierowca musi okazać podczas kontroli drogowej (NW, AC, badanie tech.)?

Odp. Badanie techniczne

ZDJĘCIE Okresowe badania techniczne pojazdu należy przeprowadzać (co 2 lata, co 3 lata, przed upływem terminu)?

Odp. Przed upływem terminu podanego w dowodzie rejestracyjnym

ZDJĘCIE W jakim przypadku musisz przeprowadzić dodatkowe badanie techniczne samochodu osobowego?

Odp. Po skierowaniu przez organ kontroli ruchu drogowego

ZDJĘCIE Co kierowca powinien okazać w czasie kontroli drogowej (ubezpieczenie AC, zaświadczenie o dodatkowym badaniu technicznym, dowód rejestracyjny)

Odp. Dowód rejestracyjny

ZDJĘCIE Do czego uprawnia kategoria AM

Odp. Kierowania czterokołowcem lekkim

ZDJĘCIE Która z poniższych kategorii uprawnia do kierowania czterokołowcem innym niż lekki (AM, A, B1)

Odp. B1

ZDJĘCIE Poruszasz się autem z przyczepką lekką. Jaki dokument musisz mieć przy sobie?

Odp. Dowód rejestracyjny samochodu i przyczepy

ZDJĘCIE Poruszasz się autem z przyczepką lekką. Jaki dokument musisz mieć przy sobie (dowód rejestracyjny przyczepy, ubezpieczenie AC, ubezpieczenie NW)?

Odp. Dowód rejestracyjny przyczepy

ZDJĘCIE Która kategoria uprawnia do kierowania pojazdem z przyczepą lekką?

Odp. B

ZDJĘCIE Ile osób razem z kierowcą pozwala przewozić prawo jazdy kategorii B?

Odp. 9

ZDJĘCIE Ile osób razem z kierowcą możesz przewozić w aucie?

Odp. Tyle ile jest w dowodzie rejestracyjnym

ZDJĘCIE Jaka jest dopuszczalna masa rzeczywista przyczepy ciągniętej przez samochód?

Odp. Taka sama jak masa rzeczywista samochodu

ZDJĘCIE Który z poniższych pojazdów może kierować posiadacz prawa jazdy kat. B (samochód osobowy z przyczepą o masie dmc 4,5 t, ciągnik rolniczy z dwoma przyczepami, samochód ciężarowy o masie dmc poniżej 2,5 t)?

Odp. Samochód ciężarowy o masie dmc poniżej 2,5 t.

ZDJĘCIE Która kategoria uprawnia do kierowania pojazdem z przyczepą, których łączna masa dmc wynosi 4,5 t?

Odp. B+E

ZDJĘCIE O czym musi pamiętać posiadacz przyczepy lekkiej (wpis w dowodzie rejestracyjnym pojazdu ciągnącego, dokonywaniu regularnych przeglądów technicznych przyczepy, wykonaniu dodatkowego badania technicznego)?

Odp. Wpis w dowodzie rejestracyjnym pojazdu ciągnącego

ZDJĘCIE O czym ma obowiązek pamiętać posiadacz samochodu (badania techniczne, wykupienie ubezpieczenia AC, wykupienie ubezpieczenia NW)?

Odp. Wykonywaniu badań technicznych

ZDJĘCIE Przez ile dni po upływie terminu ważności prawa jazdy można prowadzić samochód?

Odp. Po upływie terminu ważności nie można prowadzić pojazdu

ZDJĘCIE Czy motorower może poruszać się po autostradzie?

NIE

ZDJĘCIE Wypożyczając samochód zagranicą musimy mieć przy sobie?

Odp. Upoważnienie od osoby wypożyczającej samochód

ul. Parkowa 7

Część 10

TECHNIKA KIEROWANIA

58-160 Świebódzice

ZDJĘCIE Który ze wskazanych sposobów ułożenia rąk na kierownicy jest prawidłowy?

Odp. 17/19h (jak na zegarze)

ZDJĘCIE Czy 1 sekunda to czas jaki zwykle upływa od zauważenia przeszkody do czasu naciśnięcia na pedał hamulca?

TAK

ZDJĘCIE Jaki może być skutek hamowania awaryjnego na zanieczyszczonej jezdni?

Odp. Nieprzewidziany uślizg

ZDJĘCIE Pole widzenia kierującego pojazdem podczas jazdy z prędkością 130 km/h wynosi?

Odp. Ok. 30°

ZDJĘCIE Jak będziesz obserwował drogę przed samochodem (ciągle patrząc w jeden punkt, obserwując drogę tylko przed pojazdem, obserwując przed i wokół pojazdu)?

Odp. Obserwując drogę przed i wokół pojazdu

ZDJĘCIE Jak powinieneś się zachować wjeżdżając na odcinek drogi pokrytej kałużami?

Odp. Ograniczyć prędkość ponieważ możesz spodziewać się poślizgu kół,

ZDJĘCIE Jak powinien się zachować kierujący podczas jazdy autostradą?

Odp. Patrzyć przed siebie i od czasu do czasu w lusterkach wstecznych kontrolować drogę za pojazdem;

ZDJĘCIE Na co należy zwrócić uwagę podczas cofania pojazdem?

a. na obiekty znajdujące się wokół pojazdu i zbliżające się do niego;

ZDJĘCIE Zaśnieżona ulica

W jaki sposób można zwiększyć bezpieczeństwo jadąc w takich warunkach (opony zimowe, używanie hamulca awaryjnego, gwałtowne przespieszanie)?

Odp. Używając opon zimowych

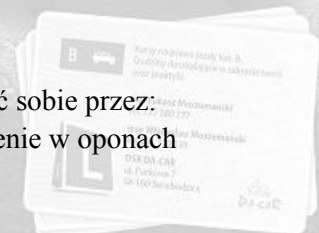
ZDJĘCIE Wyjazd samochodem osobowym z grząskiego śniegu można ułatwić sobie przez:

Odp. Kilkakrotne cofanie pojazdem i jazdę do przodu / lub zmniejszając ciśnienie w oponach

ZDJĘCIE Przy jakiej temperaturze, należy zmienić opony letnie na zimowe?

Odp. ok. 7 stopni Celsjusza

www.da-car.info



ZDJĘCIE Czy stojąc w korku który się nie rusza możesz wyłączyć silnik?

TAK

ZDJĘCIE Kiedy sprawdzisz poziom ciśnienia w kołach?

Odp. Bezpośrednio przed jazdą/ lub przynajmniej 2 godziny po dłuższej jeździe

Do zmiany biegów wykorzystać możesz (tylko słuch, tylko obrotomierz, wskazania prędkości i ich zakresy dla poszczególnych biegów):

Odp. Wskazania prędkości i ich zakresy dla poszczególnych biegów

ZDJĘCIE Jak powinna pracować dźwignia zmiany biegów:

Odp. Stawiać mały opór

ZDJĘCIE Gdzie najbardziej przydatny będzie tempomat?

Odp. Na autostradzie

ZDJĘCIE Czy używanie tempomatu jest zabronione w terenie zabudowanym ?

NIE

ZDJĘCIE Na czym powinna polegać prawidłowa takty jazdy w tej sytuacji drogowej? (na zdjęciu ośnieżona droga)

Odpowiedzi: A - na odpowiedniej prędkości, B - na zajmowaniu środka jezdni, C - na jeździe z możliwie najwyższym biegiem?

Odp. A

ZDJĘCIE Co pomoże Ci zachować właściwy tor jazdy, gdy w gęstej mgłę poruszasz się drogą ekspresową?

Odp. Obserwacja i kierowanie się wskazaniem znaków poziomych wyznaczających pasy ruchu;

ZDJĘCIE Jak powinien się zachować kierujący podczas jazdy autostradą?

Odp. Patrzyć przed siebie i od czasu do czasu w lusterkach wstecznych kontrolować drogę za pojazdem;

ZDJĘCIE Odległość od pojazdu jadącego przed nami uzależniona jest od?

Odp. Prędkości

ZDJĘCIE Co ma bezpośredni wpływ na długość hamowania (czas reakcji kierowcy, nawierzchnia, prędkość)?

Odp. Prędkość

ZDJĘCIE Szybsze zużywanie się opon kół przednich w samochodzie osobowym może być spowodowane?

Odp. Eksploatowaniem pojazdu z nieprawidłowym ciśnieniem powietrza w ogumieniu tych kół lub złym ustawieniem lub wyważeniem kół,

ZDJĘCIE Oponę zmieniamy w nowym samochodzie osobowym gdy (gwóźdź, uszkodzony wentyl, odkształcona)?

Odp. Gdy jest odkształcona

ZDJĘCIE Co sprawi unieruchomienie silnika przy ruszaniu na wzniesieniu?

Odp. Zbyt późne puszczanie hamulca awaryjnego względem sprzęgła

ZDJĘCIE Jedziesz z prędkością 10 km/h i chcesz się zatrzymać. Co należy zrobić?

Odp. Równocześnie wcisnąć sprzęgło i hamulec

Kiedy wciskasz sprzęgło podczas normalnego hamowania?

Odp. Przy zbliżeniu się do prędkości minimalnej dla wybranego biegu

ZDJĘCIE Jaki sposób jazdy jest najbardziej ekonomiczny (eco-driving)?

Odp. Unikanie gwałtownych hamowań i przespieszzeń

ZDJĘCIE Co powinieneś zrobić, aby płynnie ruszyć?

Odp. Powoli puszczać sprzęgło, jednocześnie dodając delikatnie gazu

ZDJĘCIE Jesteś na skrzyżowaniu, na co powinieneś zwracać uwagę (tylko na znaki, tylko na prawą stronę, na możliwe punkty kolizyjne)?

Odp. Punkty kolizyjne

ZDJĘCIE Widoczne kałuże, w pobliżu przystanek autobusowy. Jak się powinieneś zachować (przyspieszyć, gwałtownie zahamować, płynnie zmniejszyć prędkość)?

Odp. Płynnie zmniejszyć prędkość

ZDJĘCIE Jak powinieneś zachować się przy zmianie biegu, podczas rozpędzania samochodu na płaskim odcinku drogi (wykorzystać maksymalne obroty silnika, zmienić bieg o 2., zmienić bieg w taki sposób aby pojazd nie "dusił się")?

Odp. Zmienić bieg w taki sposób aby pojazd nie "dusił się"

ZDJĘCIE Jaki jest wpływ prędkości pojazdu na kąt widzenia drogi?

Ze wzrostem prędkości kąt widzenia zawęża się

ZDJĘCIE Jaka pozycja za kierownicą umożliwi zmniejszenie efektu tzw. martwego pola w lusterkach, występującego w czasie obserwacji drogi?

Odp. Dynamiczna - w zależności od sytuacji odchylenie głowy i tułowia

ZDJĘCIE Co może ograniczyć pole widzenia (brudna szyba, zbyt mała prędkość, lusterka boczne)?

Odp. Brudna szyba

ZDJĘCIE Droga w deszczu.

Kiedy istnieje największe ryzyko wypadnięcia w poślizg?

Odp. Na początku opadów

ZDJĘCIE Prosta droga, z górki. Do czego w tej sytuacji może prowadzić jazda na "luzie"?

Odp. Zwiększenie zużycia paliwa (/ew na zakręcie – zwiększone ryzyko wypadnięcia w poślizg)

Część 11
INNE

ZDJĘCIE Czy opłata za przejazd pojazdu o gabarytach nienormalnych po drogach zarządzanych przez Generalną Dyрекcję Dróg i Autostrad, przeznaczana jest na budowę oraz modernizację dróg?

TAK (jasne ;)

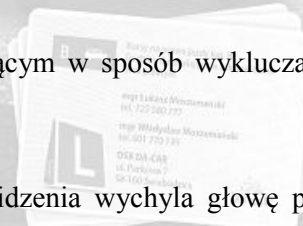
ZDJĘCIE Czy pojazd holowany powinien być połączony z pojazdem holującym w sposób wykluczający możliwość odczepienia się w czasie jazdy?

TAK

KLIP Kierujący wyjeżdża z miejsca parkingowego, aby zwiększyć pole widzenia wychyla głowę przez szybę samochodu.

Czy kierujący zachował się prawidłowo?

www.da-car.info



NIE

ZDJĘCIE Jeździec porusza się na koniu wykorzystując pobocze.

Czy jego zachowanie jest prawidłowe?

TAK

ZDJĘCIE Jakie są wymiary tablicy rejestracyjnej?

Odp. 520mm x 114mm

ZDJĘCIE Jakie wymiary ma nalepka kontrolna na przednią szybę samochodu?

Odp. 5X10 cm

ZDJĘCIE Minimalna długość dźwigni zmiany biegów wynosi:

Odp 10,2 cm

ZDJĘCIE Czy po wjeździe na skrzyżowanie (rondo) powinieneś poruszać się dookoła wyspy zgodnie z kierunkiem ruchu wskazówek zegara?

NIE

ZDJĘCIE Czy jako kierujący możesz oddalić się od pojazdu, którego silnik jest w ruchu?

NIE

ZDJĘCIE Czy jako kierujący możesz oddalić się od pojazdu którego silnik jest w ruchu?

NIE

Kursy na Prawo Jazdy kat. B.

(Godziny doszkalające w zakresie teorii oraz praktyki)



Zmieniliśmy nazwę

tel. 727 580 777

tel. 601 770 139



www.da-car.info

